



وزارة التربية
MINISTRY OF EDUCATION



حقيبة الاجتماعية للمرحلة المتوسطة

للمف السادس و للمف السابع

(الطبعة الثانية)

(الطبعة الثانية)



تحت رعاية التوجيه العام للاجتماعيات
د.نادية العريضان

الموجه الفني الأول
أ. دلال محمد الأنصاري



لايفغني عن الكتاب المدرسي

الاقتراحات والملاحظات
ssfarkuwait@gmail.com

جميع الحقوق محفوظة

إعداد

الصف السادس

أ.إيمان فهد العجمي
أ.أسامة عبدالله بكري
أ.أسرار محمد الشمري
أ.سارة مبارك المعصب
أ.حصة ناصر المطيرات
أ.مريم فهد المطيري
أ.مها خالد البيدان
أ.موضي سعد العتيبي
أ.نورة عماد العنزي
أ.وديان عبدالله المطيري

الصف السابع

أ.غدير ناصر العازمي
أ.فاطمة مخلف المويزي
أ.مساعدة رذن المطيري
أ.أنوار الرشيد
أ.جلال عبد الحافظ
أ.زينب علي الأشوك
أ.شهد علي النومس
أ.وضحة الروقي

إشراف ومراجعة

الصف السابع

الموجه الفني: أ.محمد إبراهيم البحوه
الموجه الفني: أ.عبد الرحمن العنزي
الموجه الفني: أ.نوير سعد الخالدي
المعلمة: أ.غدير ناصر العازمي

الصف السادس

الموجه الفني: أ.شريفة خلف عويد الطواله الشمري
الموجه الفني: أ.عهود لافي المطيري
الموجه الفني: أ.أميمة محمد عبدالعزيز
المعلمة: أ.غدير ناصر العازمي

طباعة وتنسيق

أ.زينب علي الأشوك





مكتبة الكويت الوطنية
National Library of Kuwait



دولة الكويت
State of Kuwait

شهادة إيداع مصنف

تشهد مكتبة الكويت الوطنية بأنه قد تم إيداع
المصنف: دليل الإجتماعيات الإلكترونية للمرحلة المتوسطة - الصف السابع

تصنيفه : مادة دورة تدريبية

رقم تسجيل طلب الإيداع: 0548-2018

باسم: حمد إبراهيم حمد البجوه

تاريخ الميلاد: 1979/06/10

الجنسية : كويتي

مؤلفون آخرون: غدير العازمي- فاطمة المويزري- مساعد المطيري- أنوار الرشيدى- جلال عبد الحافظ- زينب الأشوك- شهد الرشيدى- وضحه الروقي

بتاريخ : 2018/04/22

وخصص له رقم الإيداع : 7-0049/2018

إسم الطالب : حمد إبراهيم حمد البجوه

جنسيته: كويتي

صفته : المؤلف

وقد صدرت هذه الشهادة دون أنى مسؤولية على مكتبة الكويت الوطنية فيما ورد بها تجاه حقوق الغير .

بتاريخ : 2018/04/22

إعتماد:

مدير عام مكتبة الكويت الوطنية

كامل سليمان العبد الجليل
المدير العام
مكتبة الكويت الوطنية

موافقه:

مدير إدارة حق المؤلف



مديرة إدارة حق المؤلف

إعداد:

الموظف المسؤول

مكتبة الكويت الوطنية

الوحدة الأولى



السؤال الأول : اكمل العبارات التالية بما يناسبها فيما درست :-

- 1- يمتد الوطن العربي شمال قاره افريقيا وجنوب غربي لقاره اسيا ص21
- 2- يضم الوطن العربي 22 دولة عربيه ص21
- 3- مساحات الجانب الافريقي اكبر من مساحات الجانب الاسيوي ص21
- 4- تبلغ مساحة الوطن العربي حوالي 13.500 مليون كم2 ص 23
- 5- تمثل مساحة الوطن العربي بالنسبة لمساحة العالم نحو 10% ص 23
- 6- تتكون جمهوريه جزر القمر من اتحاد اربع جزر وعاصمتها تسمى موروني ص23
- 7- البحر الفاصل بين الجناح الاسيوي والجناح الافريقي لدول الوطن العربي يسمى البحر الاحمر ص24
- 8- الدائرة العرضية التي تقسم الكره الأرضية الى قسمين شمالي وجنوبي يسمى خط الاستواء ص31
- 9- اشكال سطح الارض تسمى التضاريس ص37
- 10- تمتد جبال أطلس في دولتين عربيتين هما الجزائر و المغرب ص38
- 11- القارة المجاورة للوطن العربي من جهة الشمال أوروبا ص 33
- 12- يمتد الوطن العربي من المحيط الاطلسي غربا الى بحر العرب والخليج العربي شرقا ص 31
- 13- يقع الوطن العربي بالنسبة لقارة اسيا في الجنوب الغربي ص 34
- 14- يقع الوطن العربي بالنسبة لقارة أفريقيا في الشمال ص 34
- 15- يشكل سكان الوطن العربي من سكان العالم تقريبا حوالي 5% ص35
- 16- اكثر الاشكال التضاريسية انتشارا في الوطن العربي تسمى الهضاب ص40
- 17- تقع هضبه نجد في شبه الجزيرة العربية ص40
- 18- اكبر هضبه عربيه تقع في الجناح الافريقي تسمى هضبه أفريقية الشمالية أو الصحراء الكبرى . ص40
- 19- يمر خط الاستواء بدولة عربية تسمى الصومال ص 32
- 20- الدولة العربية التي يمر بها خط جرينتش تسمى الجزائر ص 32

- 21- وزن الهواء فوق أي مكان يسمى الضغط الجوي . ص 44
- 22- حالة الجو خلال فترة زمنية طويلة يسمى المناخ . ص 44
- 23- حالة الجو في مكان لمدة قصيرة تتراوح بين يوم او عدة ايام يسمى الطقس . ص 44
- 24- الرياح المحلية التي تهب على دولة العراق تسمى الشرقية . ص 48
- 25- الرياح المحلية التي تهب على دولة الكويت تسمى الطوز . ص 48
- 26- الرياح المحلية التي تهب على دولة السعودية تسمى السموم . ص 48
- 27- الرياح المحلية التي تهب على دولة مصر تسمى الخماسين . ص 48
- 28- الرياح المحلية التي تهب على دولة ليبيا تسمى القبلي . ص 48
- 29- الرياح المحلية التي تهب على دولة الجزائر تسمى السيروكو والسيلانو ص 48
- 30- الرياح المحلية التي تهب على دولة السودان تسمى الهبوب ص 48
- 31- النبات الذي ينمو تلقائيا عقب سقوط المطر دون تدخل من الانسان يسمى النبات الطبيعي ص 51
- 32- الغابات التي تمتاز بضخامة اشجارها وجذوعها وتشابك اغصانها تسمى الغابات المدارية الحارة ص 52
- 33- الغابات التي تتسم بعدم كثافتها وبعضها يكون دائم الخضرة وبعضها الاخر تتساقط اوراقه في فصل الشتاء تسمى الغابات المعتدلة ص 52
- 34- حشائش طويلة يختلف نوعها حسب كمية الامطار تسمى الحشائش الحارة أو السافانا ص 52
- 35- حشائش قصيرة نوعا ما تنمو في الشتاء خلال موسم سقوط الامطار تسمى الحشائش المعتدلة أو الاستبس ص 52
- 36- تعرف حشائش الإستبس في بلاد المغرب باسم الحلفا ص 52
- 37- نباتات تقاوم الجفاف من خلال عدة وسائل جذورها طويلة هي النباتات الصحراوية ص 52
- 38- حشائش قصيرة نوعا ما وتربي عليها الأغنام والماعز والخيول تسمى الاستبس ص 52
- 39- حشائش طويلة تربي عليها الماشية وتنتشر في جنوب السودان والصومال تسمى السافانا ص 52
- 40- تعتبر أشجار الساج والماهو جنى والتاك من أشجار الغابات المدارية الحارة ص 52
- 41- تعتبر أشجار الأرز والعرعر والصنوبر من أشجار الغابات المعتدلة ص 52

- 42- الحيوان الذي لقب بسفينة الصحراء يسمى الجمال ص 56
- 43- من اهم مصادر المياه العذبة في الوطن العربي هي الانهار ص 57
- 44- مجرى مائي عذب ينحدر على الدوام لينتهي الى البحر او نهر اخر او ينتهي تدريجيا بالصحراء هو النهر ص 58
- 45- الدولة العربية التي يصب بها نهر النيل هي مصر ص 58
- 46- الدولة العربية التي يصب بها نهري دجلة والفرات هي العراق ص 58
- 47- الدولة العربية التي يصب بها نهر العاصي هي سوريا ص 58
- 48- الدولة العربية التي يصب بها نهر شبلي هي الصومال ص 58
- 49- الدولة العربية التي يصب بها نهر جوبا هي الصومال ص 58
- 50- الدولة العربية التي يصب بها نهر المجردة هي تونس ص 58
- 51- الدولة العربية التي يصب بها نهر الشليف هي الجزائر ص 58
- 52- الدولة العربية التي يصب بها نهر سبو هي المغرب ص 58
- 53- الدولة العربية التي يصب بها نهر ابو رقرق هي المغرب ص 58
- 54- الدولة العربية التي يصب بها نهر ام الربيع هي المغرب ص 58
- 55- الدولة العربية التي يصب بها نهر السوس هي المغرب ص 58
- 56- المياه التي توجد في جوف الارض تسمى المياه الجوفية ص 60
- 57- مجرى صغير مائي في الارض تسمى الافلاج ص 60
- 58- مصدر المياه الجوفية هو المطر أو الجليد ص 60
- 59- تكثر الابار الجوفية في الواحات ص 60
- 60- مسطح مائي تحيط به اليابسة من جميع الاتجاهات يسمى البحيرة ص 60
- 61- بدأت دولة الكويت تعتمد اعتمادا كاملا على تحلية مياه البحر منذ عام 1953 م ص 61
- 62- اول محطة تحلية مياه في دولة الكويت هي محطة الشويخ ص 61
- 63- اكثر الدول استخداما للمياه المحلاة هي الكويت ص 62

64- تبلغ نسبة استخدام المياه المحلاة في دولة الكويت الى 55% ص 62

65- من عناصر المناخ : درجة الحرارة والرياح والضغط الجوي وعنصر اخر يسمى الامطار ص 45

صح ما تحته خط في العبارات التالية واكتب العبارة الصحيحة بين الاقواس :-

1- المسطح المائي الذي يحده الوطن العربي من الغرب يسمى البحر الأحمر . (المحيط الاطلسي) ص 34

2- الدولة العربية التي تتكون من مجموعة جزر هي اليمن . (جزر القمر) ص 23

3- يربط مضيق هرمز بين الخليج العربي وخليج العقبة . (خليج عمان) ص 29

4- يربط مضيق باب المندب بين البحر الاحمر والبحر المتوسط . (خليج عدن) ص 29

5- يربط مضيق جبل طارق بين البحر المتوسط والمحيط الهندي . (المحيط الاطلسي) ص 29

6- تمتد جبال الأطلس في دولتين هما الجزائر والسعودية . (المغرب) ص 39

7- وزن الهواء فوق أي مكان يسمى الرياح . (الضغط الجوي) ص 44

8- حالة الجو خلال فترة زمنية طويلة الطقس . (المناخ) ص 44

9- حالة الجو في مكان لمدة قصيرة تتراوح بين يوم او عدة ايام المناخ . (الطقس) ص 44

10 - الرياح المحلية التي تهب على دولة العراق تسمى الطوز . (الشرقية) ص 48

11- الرياح المحلية التي تهب على دولة الكويت تسمى الشرقية . (الطوز) ص 48

12- الرياح المحلية التي تهب على دولة السعودية تسمى الهبوب . (السموم أو الطوز) ص 48

13- الرياح المحلية التي تهب على دولة مصر تسمى القبلي . (الخماسين) ص 48

14 - الرياح المحلية التي تهب على دولة ليبيا تسمى الخماسين . (القبلي) ص 48

15- الرياح المحلية التي تهب على دولة الجزائر تسمى التجارية . (السيروكو والسيلانو) ص 48

16- الرياح المحلية التي تهب على دولة السودان تسمى الطوز . (الهبوب) ص 48

17- النبات الذي ينمو تلقائيا عقب سقوط المطر دون تدخل من الانسان يسمى النبات المزروع . (النبات الطبيعي)

ص 51

- 18- الغابات التي تمتاز بضخامة اشجارها وجذوعها وتشابك اغصانها تسمى الغابات المعتدلة . (الغابات المدارية الحارة) ص52
- 19- الغابات التي تتسم بعدم كثافتها وبعضها يكون دائم الخضرة وبعضها الاخر تتساقط اوراقه في فصل الشتاء تسمى الغابات المدارية الحارة . (الغابات المعتدلة) ص52
- 20- حشائش طويلة يختلف نوعها حسب كمية الامطار تسمى الحشائش المعتدلة (الحشائش الحارة) ص51
- 21- حشائش قصيرة نوعا ما تنمو في الشتاء خلال موسم سقوط الامطار تسمى الحشائش الحارة (الحشائش المعتدلة) ص51
- 22- تعرف حشائش الاستبس في بلاد المغرب باسم الساج . (الحلفا) ص52
- 23- نباتات تقاوم الجفاف من خلال عدة وسائل جذورها طويلة هي النباتات الطبيعية . (النباتات الصحراوية) ص52
- 24- حشائش قصيرة نوعا ما وتربى عليها الأغنام والماعز والخيول هي السافانا . (الاستبس) ص52
- 25- حشائش طويلة تربى عليها الماشية وتنتشر في جنوب السودان والصومال هي الاستبس . (السافانا) ص52
- 26- تعتبر أشجار الساج والماهو جنى والتاك من أشجار الغابات المعتدلة . (الغابات المدارية الحارة) ص52
- 27- تعتبر أشجار الأرز والعرعر والصنوبر من أشجار الغابات المدارية الحارة . (الغابات المعتدلة) ص52
- 28- الحيوان الذي لقب بسفينة الصحراء هو الماعز (الجمل) ص56
- 29- من اهم مصادر المياه العذبة في الوطن العربي هي البحيرة . (الانهار) ص57
- 30- مجرى مائي عذب ينحدر على الدوام لينتهي الى البحر او نهر اخر او ينتهي تدريجيا بالصحراء هو الإفلاج (النهر) ص58
- 31- الدولة العربية التي يصب بها نهر النيل هي العراق (مصر) ص58
- 32- الدولة العربية التي يصب بها نهري دجلة والفرات هي الاردن . (العراق) ص58
- 33- الدولة العربية التي يصب بها نهر العاصي هي لبنان . (سوريا) ص58
- 34- الدولة العربية التي يصب بها نهر شبلي هي جيبوتي . (الصومال) ص58
- 35- الدولة العربية التي يصب بها نهر جوبا هي موريتانيا . (الصومال) ص58
- 36- الدولة العربية التي يصب بها نهر المجردة هي الجزائر . (تونس) ص58

- 37- الدولة العربية التي يصب بها نهر الشليف هي اليمن (الجزائر) ص58
- 38- الدولة العربية التي يصب بها نهر سبو هي الجزائر . (المغرب) ص58
- 39- الدولة العربية التي يصب بها نهر ابو رقرق هي تونس . (المغرب) ص58
- 40- الدولة العربية التي يصب بها نهر ام الربيع هي مصر . (المغرب) ص58
- 41- الدولة العربية التي يصب بها نهر السوس هي ليبيا . (المغرب) ص58
- 42- المياه التي توجد في جوف الارض تسمى الافلاج . (المياه الجوفية) ص 60
- 43- مجرى صغير مائي في الارض تسمى النهر . (الافلاج) ص60
- 44- سطح مائي تحيط به اليابسة من جميع الاتجاهات يسمى النهر . (البحيرة) ص 60
- 45- بدأت دولة الكويت تعتمد اعتمادا كاملا على تحلية مياه البحر منذ عام 1959 م. (1953م) ص 61
- 46- اول محطة تحلية مياه في دولة الكويت هي محطة الزور . (محطة الشويخ) ص61
- 47- اكثر الدول استخداما للمياه المحلاة هي ليبيا . (الكويت) ص62
- 48- تبلغ نسبة استخدام المياه المحلاة في دولة الكويت الى 46% . (55%) ص62
- 49- تصل قناة السويس بين البحر المتوسط و بحر العرب . (البحر الأحمر) ص 29

السؤال الثالث : اكتب المصطلح الدال على العبارات التالية :-

<p>مجموعة من الدول العربية التي يجمعها عدد من السمات المشتركة ويمتد ضمن قارتين من اكبر قارات العالم مساحة ص22</p>	<p><u>الوطن العربي</u></p>
<p>مجرى مائي صناعي ضيق يشق لأغراض الري او النقل ص28</p>	<p><u>الفتاه</u></p>
<p>ممر مائي ضيق يصل بين بحرين او محيطين او مساحتين كبيرتين نسبيا من الماء ص28</p>	<p><u>المضيق</u></p>
<p>جميع اشكال المياه على سطح الأرض مثل البحار والخلجان والمحيطات و البحيرات والانهار الخ ص28</p>	<p><u>المسطحات المائية</u></p>
<p>عبارة عن خطوط وهمية ترسم على الكرة الأرضية وتقسّمها الى قسمين شرقي وغربي وعددها 360 خطا والخط الرئيسي خط جرينتش. ص32</p>	<p><u>خطوط الطول</u></p>
<p>عبارة عن خطوط وهمية ترسم على الكرة الأرضية وتقسّمها الى قسمين شمالي وجنوبي وعددها 180 خطا و الخط الرئيسي خط الاستواء ص32</p>	<p><u>دوائر العرض</u></p>
<p>نقطه من الكرة الأرضية يتحدد موقعها بخطوط الطول ودوائر العرض 31</p>	<p><u>الموقع الفلكي</u></p>
<p>موقع الدولة بالنسبة لليابس والماء ص33</p>	<p><u>الموقع النسبي</u></p>
<p>كل ما ارتفع من الارض له قمه لا يقل ارتفاعها عن 1000 متر ص38</p>	<p><u>الجبال</u></p>
<p>ارض مرتفعة سطحها مستوي وتمتد على مساحه كبيره ص40</p>	<p><u>الهضاب</u></p>
<p>مساحه كبيره من سطح الارض تتميز باستوائها وقله ارتفاعها ص42</p>	<p><u>السهول</u></p>
<p>منطقة أو مكان ما ص 46</p>	<p><u>الإقليم</u></p>

صنف الكلمات التالية الى مكانها المناسب في الجدول :- ص 38

(جبال مره _ جبال اطلس _ جبال الاحجار _ جبال عسير _ جبال الحجاز – الجبل الاخضر – سلسلة جبال البحر الاحمر _ جبل شيخادار)

جبال الوطن العربي في الجناح الاسيوي	جبال الوطن العربي في الجناح الافريقي
<u>جبل قاسيون</u>	<u>جبل مره</u>
<u>جبل الشيخ</u>	<u>جبال اطلس</u>
<u>الجبل الأخضر (عمان)</u>	<u>جبال الأحجار</u>
<u>جبال عسير</u>	<u>الجبل الاخضر (ليبيا)</u>
<u>جبال الحجاز</u>	<u>سلسلة جبال البحر الاحمر</u>
<u>جبل شيخادار</u>	

2- اكتب اسماء الرياح المحلية التالية في مكانها المناسب في الجدول : ص 48

(الهبوب – الخماسين – القبلي – السيروكو والسيلانو – السموم – الشرقية)

السعودية	مصر	السودان	ليبيا	الجزائر	العراق
<u>السموم</u>	<u>الخماسين</u>	<u>الهبوب</u>	<u>القبلي</u>	<u>السيروكو</u> <u>والسيلانو</u>	<u>الشرقية</u>

3- صنف الاشجار التالية اسمائهم في مكانهم حسب الجدول التالي : ص 52

(الأثل – السدر-الساج- الارز-التاك – الابنوس – الزيتون – السنط – التفاح – الماهونجي –
العرعر- الصنوبر الحلبي- السنديان – البلوط)

الغابات المعتدلة	الغابات المدارية الحارة
<u>الارز - العرعر</u>	<u>الساج - الماهونجي</u>
<u>التفاح - البلوط</u>	<u>التاك – الأثل</u>
<u>الزيتون – الصنوبر الحلبي</u>	<u>التاك – الابنوس</u>
<u>السنديان</u>	<u>السدر – السنط</u>

4- انسب الحيوانات الى الحشائش التي تتغذى عليها في مكانها المناسب حسب الجدول : ص52

(الماشية - الاغنام - الابل - الخيول - الحمير)

الحشائش المعتدلة	الحشائش الحارة
الاغنام - الابل	الماشية
الخيول - الحمير	-

5- صنف الحياة النباتية في الوطن العربي حسب توزيعها الجغرافي في المكان المناسب حسب الجدول : ص51

(الغابات المدارية الحارة - الغابات المعتدلة - الحشائش الحارة - الحشائش المعتدلة - النباتات الصحراوية)

العراق	الجزائر	السودان	الصومال	السعودية
الحشائش المعتدلة	الغابات المعتدلة	الحشائش الحارة	الغابات المدارية الحارة +	النباتات الصحراوية
			الحشائش الحارة	+ الحشائش الحارة

6- صنف الحياة الحيوانية الصحراوية في الوطن العربي التالية في مكانها المناسب بالجدول: ص55

(الابل - الصقور - البوم - الجراد - الماعز - الافاعي - الفنران - الضب - الحباري - الجراد- الجربوع - العقارب-
الخنفس - الارانب)

الحيوانات البرية	الطيور	الحشرات	القوارض	الزواحف
الارانب	الصقور	العقارب	الفنران	الافاعي
الابل	البوم	الخنفس	الجربوع	
الماعز	الحباري	الجراد		
الضب				

7- ضع الانهار التالية اسمائهم كلا في مكانه حسب الجدول التالي : ص 58

(النيل – دجلة والفرات – العاصي –المجردة –الشليف –سبو – ابو رقرق – شبلي – جوبا – ام الربيع –السوس)

تونس	مصر	المغرب	الصومال	الجزائر	العراق	سوريا
<u>المجردة</u>	<u>النيل</u>	<u>سيو</u> <u>ابو رقرق</u> <u>ام الربيع</u> <u>السوس</u>	<u>شبلي</u> <u>جوبا</u>	<u>الشليف</u>	<u>دجلة</u> <u>والفرات</u>	<u>العاصي</u>

8- اكتب اسماء محطات تحلية المياه في مكانها المناسب حسب الجدول التالي : ص 61

(الشويخ – الاحساء – راس عبود – الفنطاس)

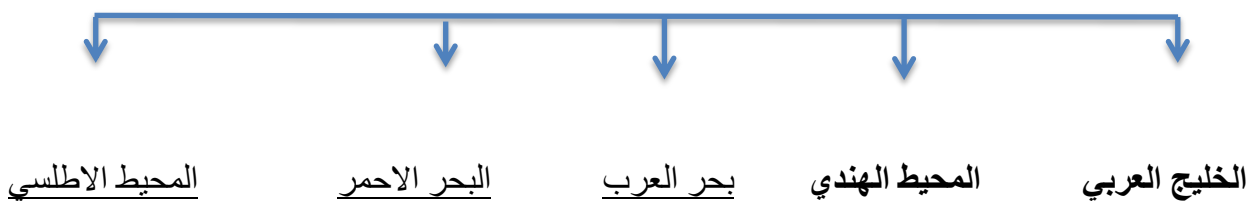
السعودية	قطر	الكويت
<u>الاحساء</u>	<u>راس عبود</u> <u>ابو فنطاس</u>	<u>الشويخ</u>

السؤال الرابع : اكمل المخططات السهمية التالية :

مقومات الهوية العربية ص 26



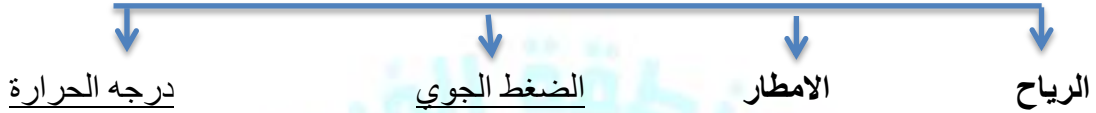
المسطحات المائية التي يطل عليها الوطن العربي ص 28



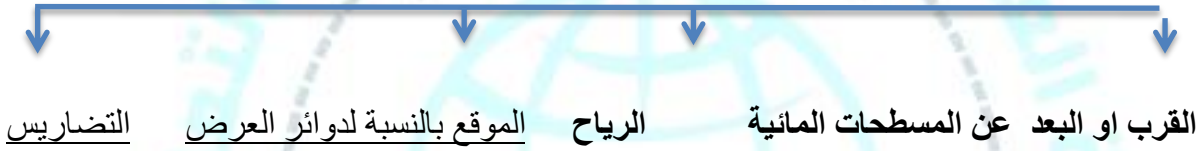
تنقسم الهضاب في الوطن العربي ص40




عناصر المناخ ص45



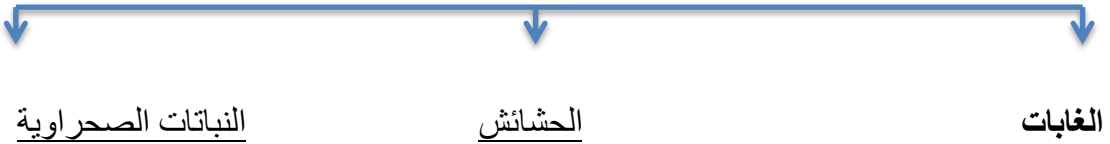
العوامل التي تؤثر في مناخ الوطن العربي ص46




الرياح المحلية في الوطن العربي ص48



الحياة النباتية في الوطن العربي ص 52



الحياة الحيوانية الصحراوية في الوطن العربي ص 55



مصادر المياه في الوطن العربي ص 57



الخامس : اختر للمجموعة (أ) ما يرتبط بها من المجموعة (ب) بوضع الرقم المناسب :


م	جموعة (أ) ص 48	الرقم المناسب	المجموعة (ب)
1	الخماسين	5	ليبيا
2	السموم	4	السودان
3	الشرقية	1	مصر
4	الهبوب	2	السعودية
5	القبلي	3	العراق

م	جموعة (أ) ص 58	الرقم المناسب	المجموعة (ب)
1	النيل	5	سوريا
2	دجلة والفرات	2	العراق
3	الشليف	1	مصر
4	جوبا	3	الجزائر
5	العاصي	4	الصومال

م	المجموعة (أ) ص 61	الرقم المناسب	المجموعة (ب)
1	الاحساء	2	الكويت
2	محطة الشويخ	-	البحرين
3	راس عبود	3	قطر
4		1	السعودية

السؤال السادس : استنتج الرابط المشترك بين العناصر التالية :

ص 45



ص 46

العوامل التي تؤثر في مناخ الوطن العربي



ص 52

الحياة النباتية في الوطن العربي



ص 48

الرياح المحلية في الوطن العربي



ص 61

محطات تحلية المياه البحر



ص 48

الرياح الصيفية والشتوية في الوطن العربي



ص 51



ص 57



ص 58



ص 60



السؤال السابع: ضع خطا تحت الخيار الصحيح من بين الخيارات التي تلي كل عبارة :

1- الرياح المحلية التي تهب على دولة السعودية : ص48

(الشرقية - السموم - الهبوب - القبلي)

2- الرياح المحلية التي تهب على دولة العراق : ص48

(الشرقية - السموم - الهبوب - القبلي)

3- الرياح المحلية التي تهب على دولة ليبيا : ص48

(الشرقية - السموم - الهبوب - القبلي)

4- الرياح المحلية التي تهب على دولة السودان : ص48

(الشرقية - السموم - الهبوب - القبلي)

6- الرياح المحلية التي تهب على دولة الكويت : ص48

(السيروكو والسيلانو - الخماسين - الهبوب - الطوز)

7- الرياح المحلية التي تهب على دولة مصر : ص48

(السيروكو والسيلانو - الخماسين - الهبوب - الطوز)

8- الرياح المحلية التي تهب على دولة الجزائر : ص48

(السيروكو والسيلانو - الخماسين - الهبوب - الطوز)

9- حالة الجو في فترة زمنية طويلة : ص44

(الطقس - المناخ - الضغط - الرطوبة)

10- حالة الجو في فترة زمنية قصيرة: ص44

(المناخ - الطقس - الرطوبة - الضغط الجوي)

11- وزن الهواء فوق أي مكان : ص44

(الرياح - الضغط الجوي - الأمطار - الرطوبة)

12- الغابات التي تمتاز بضخامة اشجارها وجذوعها وتشابك اغصانها : ص52

(الغابات المعتدلة - الغابات المدارية الحارة - الغابات الاستوائية - الغابات شبه استوائية)

13- الغابات التي تتسم بعدم كثافتها وبعضها يكون دائم الخضرة وبعضها الاخر تتساقط اوراقه في فصل الشتاء:

ص52

(الغابات المعتدلة - الغابات المدارية الحارة - الغابات الاستوائية - الغابات شبه استوائية)

14- نباتات تقاوم الجفاف من خلال عدة وسائل جذورها طويلة : ص52

(النبات المزروع - النبات الصناعي - النبات الصحراوي - النباتات البحرية)

15- حشائش قصيرة نوعا ما وتربي عليها الأغنام والماعز والخيول: ص52

(الاستبس - السافانا - الصحراوية - المزروع)

16- حشائش طويلة تربي عليها الماشية وتنتشر في جنوب السودان والصومال : ص52

(الاستبس - السافانا - النباتات الصحراوية - النبات المزروع)

17- تعتبر أشجار الساج والمانوجنى والتاك من أشجار: ص 52

(الغابات المعتدلة - الغابات المدارية الحارة - الغابات الاستوائية - الغابات شبه استوائية)

18- - تعتبر أشجار الأرز والعرعر والصنوبر من أشجار: ص 52

(الغابات المعتدلة - الغابات المدارية الحارة - الغابات الاستوائية - الغابات شبه استوائية)

19- الحيوان الذي لقب بسفينة الصحراء: ص56

(الماعز - الضب - الابل - الارنب البري)

20- - من اهم مصادر المياه العذبة في الوطن العربي : ص 57

(المياه الجوفية - مياه الانهار - الامطار - مياه البحار)

21- مجرى مائي عذب ينحدر على الدوام لينتهي الى البحر او نهر اخر او ينتهي تدريجيا بالصحراء : ص 58

(البحر) -النهر- الافلاج -الينابيع)

22- الدولة العربية التي يصب بها نهر النيل: ص 58

(سوريا) -العراق- مصر- تونس)

23- الدولة العربية التي يصب بها نهري دجلة والفرات : ص 58

(سوريا) -العراق- مصر- تونس)

24- الدولة العربية التي يصب بها نهر العاصي : ص 58

(سوريا) -العراق- مصر- تونس)

25- الدولة العربية التي يصب بها نهر المجردة: ص 58

(سوريا) -العراق- مصر- تونس)

26- الدولة العربية التي يصب بها نهر شبلي: ص 58

(الاردن) -الصومال- المغرب- الجزائر)

27- الدولة العربية التي يصب بها نهر جوبا: ص 58

(الاردن) -الصومال- المغرب- الجزائر)

28- الدولة العربية التي يصب بها نهر الشليف: ص 58

(الاردن) -الصومال- المغرب- الجزائر)

29- الدولة العربية التي يصب بها نهر سبو: ص 58

(الاردن) -الصومال- المغرب- الجزائر)

30- الدولة العربية التي يصب بها نهر ابو رقرق: ص 58

(الاردن) -الصومال -المغرب -الجزائر)

31-الدولة العربية التي يصب بها نهر ام الربيع: ص 58

(الاردن) -الصومال -المغرب -الجزائر)

32- الدولة العربية التي يصب بها نهر السوس : ص 58

(الاردن) -الصومال -المغرب -الجزائر)

33- المياه التي توجد في جوف الارض : ص 60

(الافلاج) - المياه الجوفية - البحيرة - مياه البحار)

34- مجرى صغير مائي في الارض : ص 60

(الافلاج) - المياه الجوفية - البحيرة - مياه البحار)

35- مسطح مائي تحيط به اليابسة من جميع الاتجاهات : ص 60

(الافلاج) - المياه الجوفية - البحيرة - مياه البحار)

36- الدولة التي تستفيد من تحلية مياه البحر : ص 61

(دول الخليج العربية) - مصر - سوريا -الاردن)

37- بدأت دولة الكويت تعتمد اعتمادا كاملا على تحلية مياه البحر منذ عام : ص 61

(1950 م -1951 م -1952 م -1953 م)

38- اول محطة تحلية مياه في دولة الكويت : ص 61

(محطة الدوحة) -محطة الشويخ -محطة الزور -محطة شعبية)

39- توجد محطة الاحساء لتحلية مياه البحر في دولة عربية : ص61

(قطر - الامارات - السعودية - ليبيا)

40- توجد محطة راس عبود لتحلية مياه البحر في دولة عربية : ص 61

(قطر - الامارات - السعودية - ليبيا)

41- توجد محطة ابو فنتاس لتحلية مياه البحر في دولة عربية : ص61

(قطر - الامارات - السعودية - ليبيا)

42- المصدر الذي تعتمد عليه دولة الكويت بحلية لمياه : ص62

(البحر الاحمر - خليج عمان - الخليج العربي - نهر دجلة)

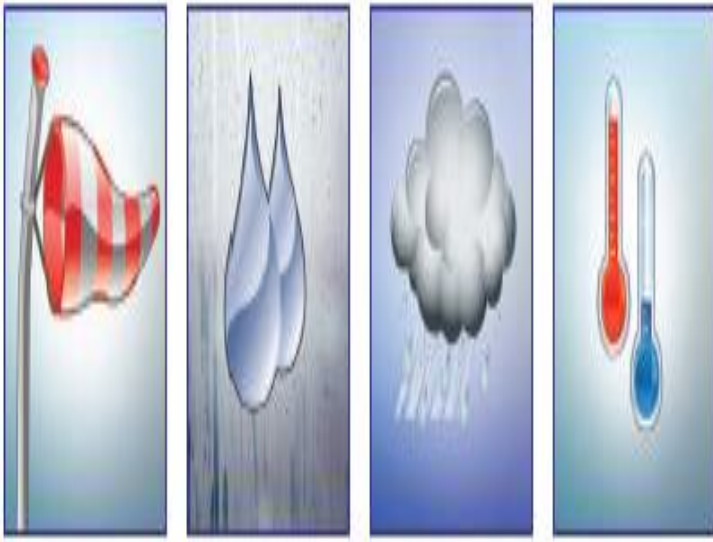
43- اكثر الدول العربية انتاجا للمياه المحلاة : ص 62

(قطر - الامارات - الكويت - ليبيا)


44- تبلغ نسبة استخدام المياه المحلاة في دولة الكويت الى : ص 62

(%55- %65- %75- %85)

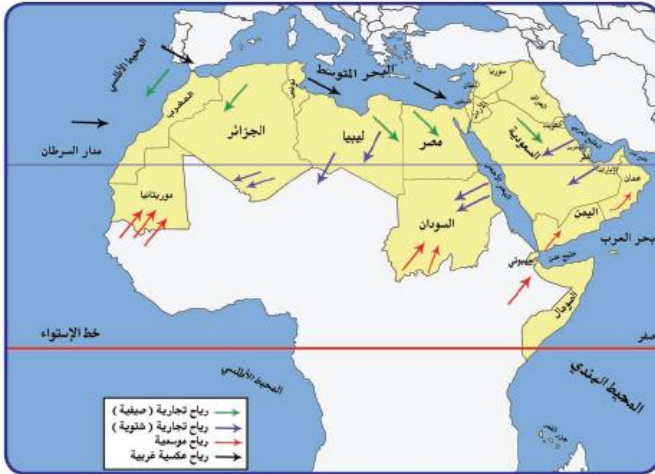
السؤال الثامن : ضع عنوان مناسب للصورة, الخريطة, الشكل التالية :



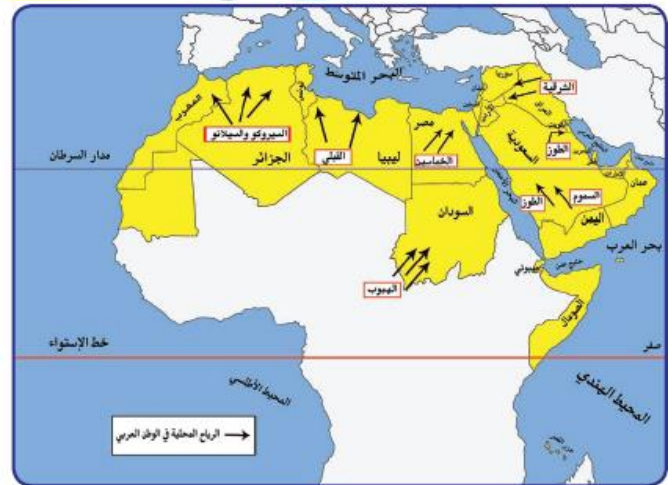
عناصر المناخ ص 45



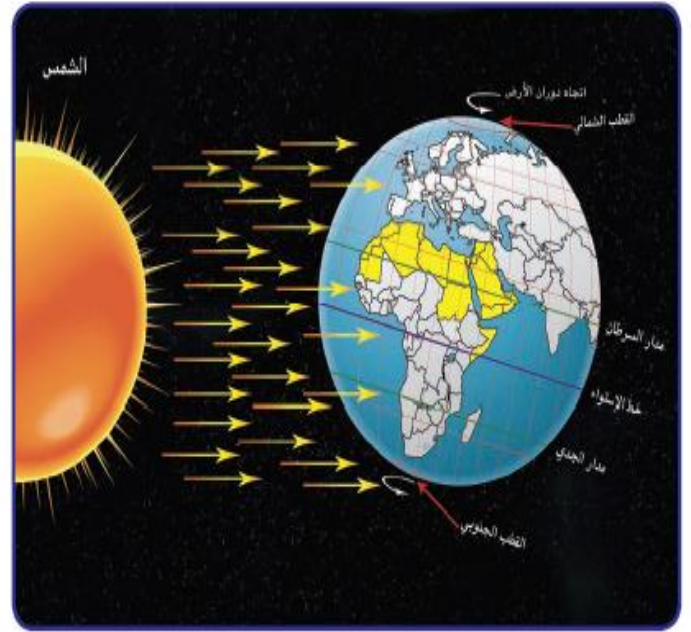
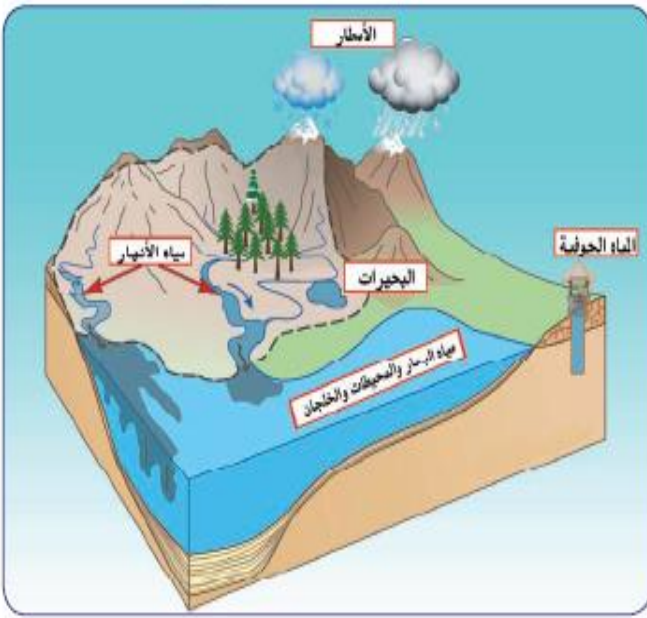
أشكال سطح الارض ص 37



الرياح الصيفية والشتوية في الوطن العربي ص 47



الرياح المحلية في الوطن العربي ص 48



اهم مصادر المياه في الوطن العربي ص

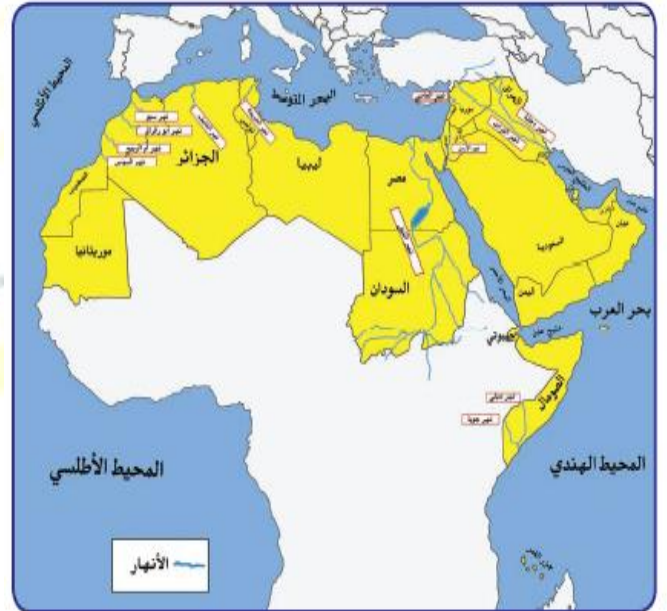
57

المناخ الوطن العربي في فصل الصيف

والشتاء ص49

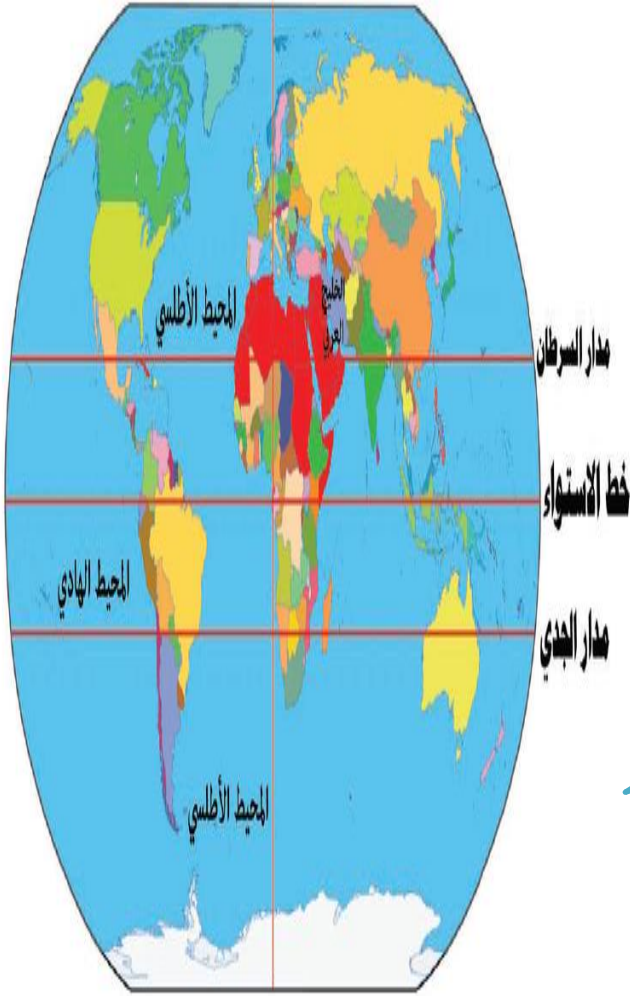


محطة تحلية مياه البحر ص 61



اهم الانهار في الوطن العربي ص 58

السؤال التاسع: لاحظ الشكل المقابل ثم اجب عن الأسئلة التالية :



1- ما هو الخط الاساسي لخطوط الطول ؟ ص 31

خط جرينتش

2- ما الدولة العربية التي يمر بها خط الاستواء ؟

الصومال

3- كم يبلغ عدد دوائر العرض ؟

180

1- ما المقصود بالطقس ؟ ص 44

هو حالة الجو في مكان لمدة زمنية قصيرة تتراوح بين يوم او عدة ايام .

2- ما هي عناصر المناخ ؟

1- درجة الحرارة 2- الرطوبة 3- الامطار 4- الرياح

5- الضغط الجوي

3- كم تبلغ درجة الحرارة في دولة الكويت في يوم الاحد ؟

42 درجة





1- ما اسم اول محطة تحلية مياه في دولة الكويت ؟ ص 61

محطة الشويخ

2- في اي عام تم انشاء اول محطة تحلية مياه في دولة الكويت ؟

في عام 1953 م

4- اي مصدر من مصادر المياه تعتمد عليه دولة الكويت ؟

تحلية مياه الخليج العربي

الكويت	55%
قطر	38%
البحرين	31%
الامارات	27%
السعودية	8%
ليبيا	5%

نسبة استخدام المياه المحلاة

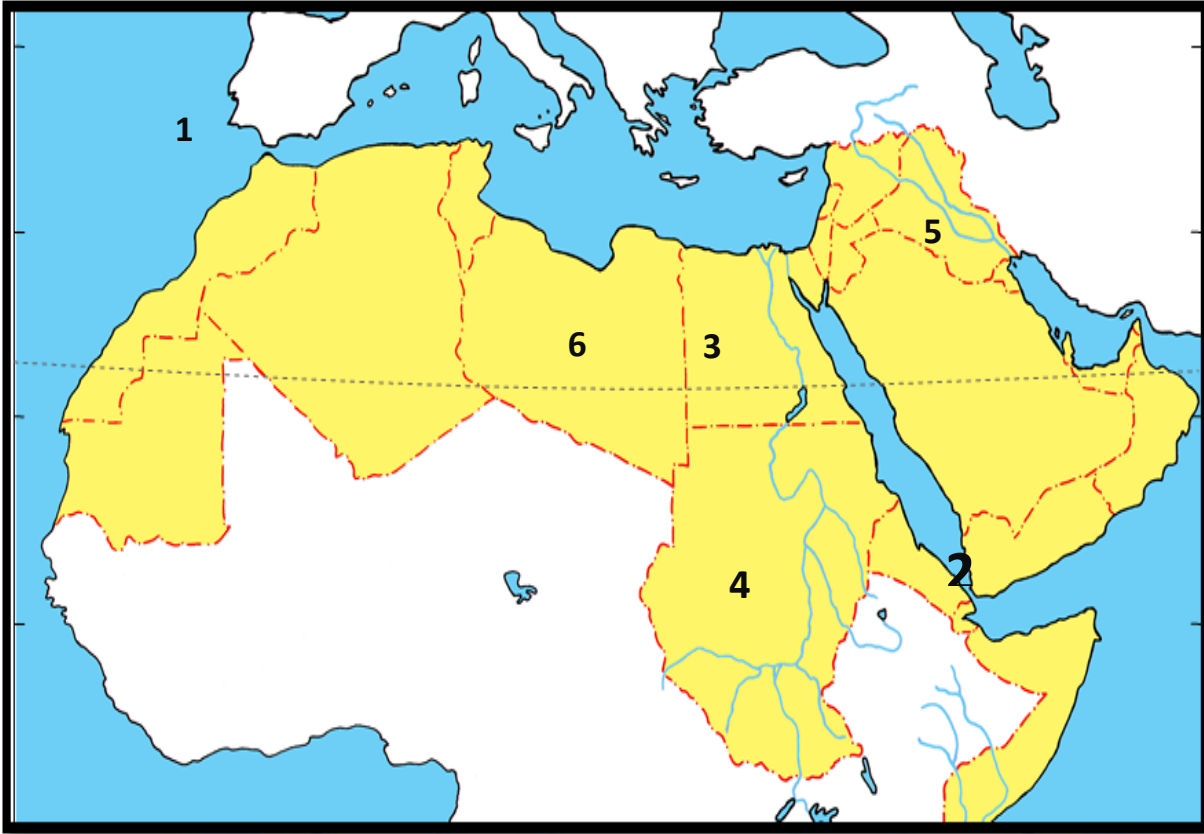
1- ما اكثر الدول استخداما للمياه المحلاة ؟ ص 62

الكويت

2- كم تبلغ نسبة استخدام المياه المحلاة في دولة قطر ؟

38%

السؤال العاشر: امامك خريطة الوطن العربي الصماء نفذ المطلوب عليها :



يشير الرقم (1) الى مسطح مائي يسمى ...المحيط الاطلسي . ص 28

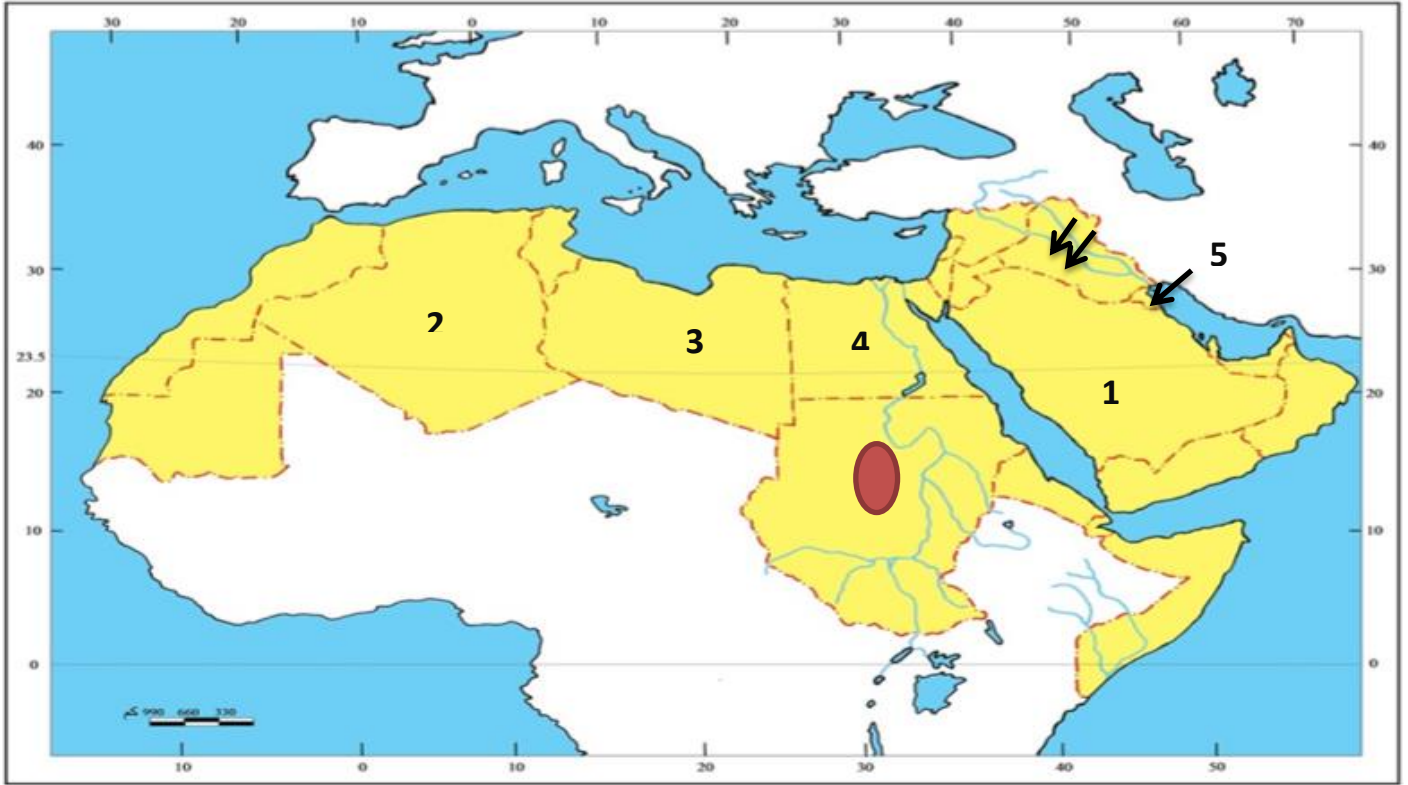
يشير الرقم (2) الى مضيق يسمى ...باب المنذب ... ص 29

يشير الرقم (3) الى دولة عربيه تسمى ..مصر ص 21

يشير الرقم (4) الى جبل يسمى ..مره ص 39

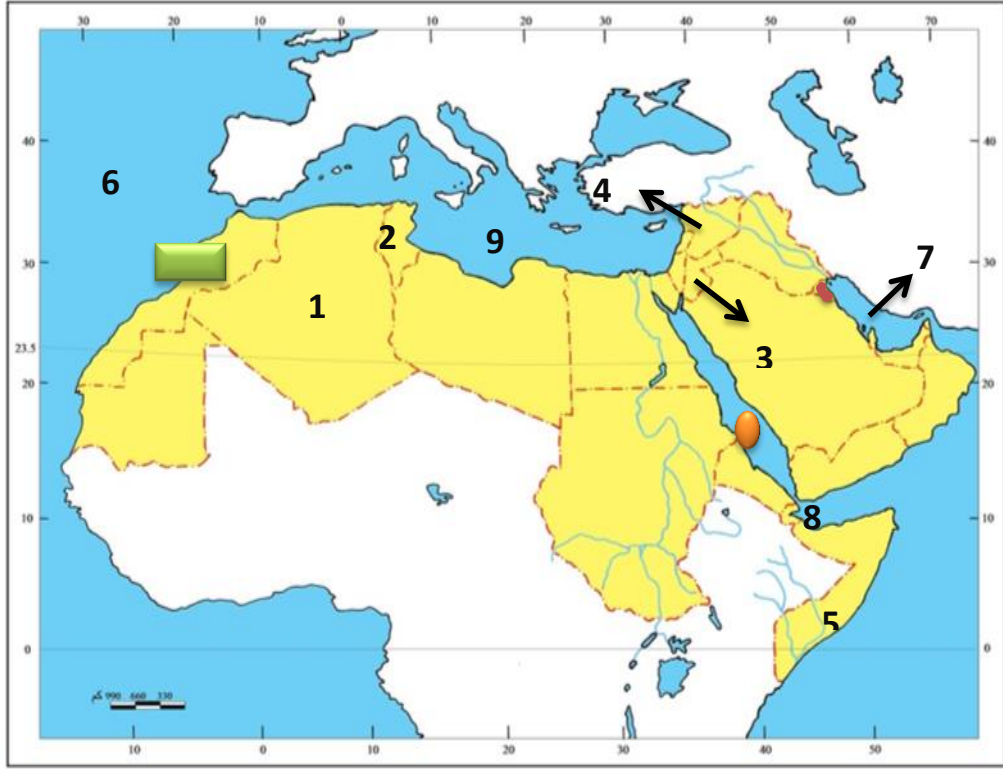
يشير الرقم (5) الى نهريْن ..دجله والفرات ... ص 28

يشير الرقم (6) الى دولة تسمى ..ليبيا... ص 28



ص 48

- الدولة العربية التي تهب فيها رياح الخماسين تمثل الرقم (4)
- الدولة العربية التي تهب فيها رياح القبلي تمثل الرقم (3)
- الدولة العربية التي تهب فيها رياح السموم تمثل الرقم (1)
- الدولة العربية التي تهب فيها رياح السيروكو و سيلانو تمثل الرقم (2)
- الدولة العربية التي تهب فيها رياح الطوز تمثل الرقم (5)
- ارسم رياح الشرقية على الخريطة مستخدما الرمز ↗ ↘
- يمثل الرمز ● رياح محلية تسمى الهبوب



ص 42

- ظلل الدولة العربية التي توجد بها محطة الشويخ باللون الاحمر
- الدولة العربي التي يوجد بها نهر العاصي تمثل الرقم (4)
- الدولة العربي التي يوجد بها نهر جوبا تمثل الرقم (5)
- الدولة العربي التي يوجد بها نهر الشليف تمثل الرقم (1)
- الدولة العربي التي يوجد بها نهر المجردة تمثل الرقم (2)
- ضع رمز على الدولة العربية التي يوجد بها نهر السوس
- مسطح المائي الخليج العربي يمثل الرقم (7)
- مسطح المائي البحر المتوسط يمثل الرقم (9)
- ضع رمز ● على المسطح المائي الذي يمثل البحر الاحمر

السؤال الاول : قارن بين الجداول التالية :-

دوائر العرض	خطوط الطول ص32	معايير المقارنة
<u>عبارة عن خطوط وهمية ترسم على الكره الأرضية وتقسما الى قسمين شرقي وغربي وشمالى</u>	<u>عبارة عن خطوط وهمية ترسم على الكره الأرضية وتقسما الى قسمين شرقي وغربي</u>	المفهوم
<u>معرفة احوال مناخ العالم</u>	<u>معرفة التوقيت الزمني في العالم</u>	المميزات
<u>180 خطا</u>	<u>360 خطا</u>	العدد

المضيق	القناة	ص28
<u>ممر مائي ضيق يصل بين بحرين او محيطين او إلى مساحتين كبيرتين نسبيا من الماء</u>	<u>مجرى مائي صناعي ضيق يشق لأغراض الري أو النقل</u>	المفهوم

السهول الساحلية	السهول الفيضية ص 42	
<u>الاراضي المنبسطة التي تجاور سواحل البحار والمحيطات</u>	<u>الاراضي المنخفضة التي تكونت من التربة التي حملتها مياه الانهار</u>	المفهوم
<u>سهول الساحلية للمحيط الاطلسي</u>	<u>سهول دجله والفرات</u>	امثله عليها

المعيار	الطقس ص 44	المناخ
التعريف	حالة الجو في مكان لمدة قصيرة تتراوح بين يوم او عدة ايام من حيث درجة الحرارة والرطوبة والامطار والرياح والضغط الجوي	حالة الجو خلال فترة زمنية طويلة من حيث درجة الحرارة والرطوبة والامطار

المعيار	فصل الصيف ص 49	فصل الشتاء
المنطقة التي تتعامد مع الشمس	تكون الشمس عامودية على المنطقة الواقعة بين خط الاستواء ومدار السرطان	تكون الشمس عامودية على المنطقة الواقعة بين خط الاستواء ومدار الجدي
مميزات المناخ	ترتفع الحرارة اكثر في وسط الوطن العربي وتكون معتدلة على سواحل البحر المتوسط وشمال الوطن العربي	ترتفع الحرارة في جنوب الوطن العربي وتقل كلما اتجهنا شمالا

المعيار	الغابات المدارية الحارة ص 52	الغابات المعتدلة
اهم اشجارها	الساج - الماهونجي - التاك - الابنوس - السدر - الاثل - السنط	الارز - العرعر - الصنوبر - البلوط - السنديان - الزيتون - التفاح - الحمضيات
مميزات اشجارها	تمتاز بضخامة اشجارها وجذوعها وتشابك اغصانها واوراقها العريضة وارتفاعها الكبير	تتسم بعدم كثافتها وبعضها يكون دائم الخضرة وبعضها الاخر تتساقط اوراقه في فصل الشتاء

المعيار	الحشائش الحارة	الحشائش المعتدلة
التعريف	هي حشائش طويلة يختلف نوعها حسب كمية الامطار وتنقسم الى : طويلة - متوسطة - قصيرة	هي حشائش قصيرة نوعا ما تنمو في الشتاء خلال موسم سقوط الامطار
الاستخدام	تتربى عليها الماشية	تتربى عليها الالغانم والابل والخيول والحمير

السؤال الثاني : على لما يلي :-

أ- اهمية الوطن العربي ؟ ص35-36

1 الاهمية الجغرافية

2 الاهمية الاقتصادية

3 الاهمية الحضارية وثقافيه

ب- تنافس الدول الاستعمارية في الاستيلاء على الوطن العربي منذ القرن (18م)؟ ص35

1 بسبب الأهمية الجغرافية والموقع الاستراتيجي المهم

2 يطل على مسطحات مائية هامة

3 ذات اهمية كبيرة للملاحة والتجارة العالمية

ج- يتمتع الوطن العربي بأهمية اقتصادية كبيرة منذ القدم ؟ ص35

1 يعتبر منطقة عبور لحركة الملاحة والتجارة العالمية

2 يعتبر الجسر الذي يربط قارات العالم الثلاث

3 ظهور النفط بكميات كبيرة

د - تتميز الاماكن القريبة من خط الاستواء بارتفاع في درجة حرارتها على مدار الايام ؟ ص 49

- بسبب سقوط اشعة الشمس عاموديا

هـ - مرور الرياح على البحار محملة ببخار الماء قد يسبب سقوط امطار او ارتفاع نسبة الرطوبة ؟ ص 47

- لان الرياح تأخذ صفة المنطقة التي تمر فيها .

ر- قدرة النباتات الصحراوية على تخزين المياه ؟ ص 52

- لأنها تمتلك لحاء سميك واوراق وبرية

ز- تنوع النبات الطبيعي في الوطن العربي ؟ ص 51

- بسبب المناخ ونوع التربة

ب- المدن الساحلية أكثر اعتدالا في درجة الحرارة؟ ص 46

- لان البحر يلطف من درجة حرارتها .

ح - ماهي عناصر المناخ ؟ ص 45

1- درجة الحرارة 2- الرطوبة 3- الامطار 4- الضغط الجوي 5- الرياح

ج- ماهي العوامل الرئيسية في تنوع النبات الطبيعي في الوطن العربي ؟ ص 51

1- نوع التربة 2- المناخ

ع - بماذا تتصف الامطار في الوطن العربي ؟ ص 59

1- تذبذب كمية الامطار من عام الى اخر كما انها تسقط في ايام معدودة

2- الامطار في الوطن العربي تكاد تقتصر على الاطراف الشمالية والاطراف الجنوبية منها.

3- تتصف الامطار بانها قليلة بصفة عامة , ولا يستثنى من ذلك سوى المناطق التي تقع من ورائها الجبال , كما هي الحال

في سواحل المغرب وساحل لبنان

غ - ما هي اشكال المياه الجوفية : ص 59

1- الابار الجوفية 2- العيون والينابيع 3- الافلاج

ب - كيف نحافظ على ثروة المياه ؟ ص 63

- 1- ترشيد استخدام المياه والحد من التبذير في المنازل
- 2- الحد من هدر المياه في عمليات الري , وذلك باستخدام الوسائل الحديثة كالرش بالتنقيط والمحوري .
- 3- تطوير استعمال مياه الصرف الصحي المعالجة في الزراعة .
- 4- تنظيم عملية الاستفادة من المياه الجوفية ومنع تسرب الاملاح الملوثة اليها واستثمارها على الوجه الامثل
- 5- اقامة البحيرات والسدود لتجميع مياه الامطار والسيول للاستفادة منها في فصل الصيف
- 6- توقيع اتفاقيات مع الدول المشاركة ودول المنبع لتحقيق مصالح الدول العربية المعنية

السؤال الثالث : عرف المفاهيم التالية :

- 1- الطقس : حالة الجو في مكان لمدة قصيرة تتراوح بين يوم او عدة ايام من حيث درجة الحرارة والرطوبة والامطار والرياح والضغط الجوي. ص 44
- 2- المناخ: حالة الجو خلال فترة زمنية طويلة من حيث درجة الحرارة والرطوبة والامطار. ص 44
- 3- الضغط الجوي : وزن الهواء فوق اي مكان ص 44
- 4- الاقليم : يعني اي منطقة او مكان ص 46
- 5- النبات الطبيعي : هو نبات الذي ينمو تلقائيا عقب سقوط المطر دون تدخل الانسان ص 51
- 6- السافانا : هي حشائش طويلة يختلف نوعها حسب كمية الامطار ص 52
- 7- الاستبس : هي حشائش قصيرة نوعا ما تنمو في الشتاء خلال موسم سقوط الامطار ص 52
- 8- النهر: مجرى مائي عذب ينحدر على الدوام لينتهي الى بحر او الى نهر اخر او ينتهي تدريجيا في الصحراء ص 58
- 9- المياه الجوفية : هي المياه التي توجد في جوف الارض ص 60
- 10- الافلاج : هو مجرى مائي صغير في الارض ص 60
- 11- البحيرة : مسطح مائي تحيط به اليابسة من جميع الاتجاهات ص 60

12- الوطن العربي : هو مجموعة الدول العربية التي يجمعها عدد من السمات المشتركة ويمتد ضمن قارتين من اكبر قارات العالم مساحة . ص 22

13- جمهورية جزر القمر : هي جمهورية تقع خارج نطاق موقع الوطن العربي حيث تتكون من اتحاد اربع جزر مستقلة تقع شمال غرب جزيرة مدغشقر في المحيط الهندي . ص 23

14- الموقع الاستراتيجي : اي موقع ذي مكانة مهمة بين دول العالم . ص 28

15- المسطحات المائية : جميع اشكال المياه على سطح الارض مثل البحار والخلجان والمحيطات والبحيرات والانهار . ص 28

16- القناة : مجرى مائي صناعي ضيق يشق لأغراض الري او النقل . ص 28

17- المضيق : ممر مائي ضيق يصل بين مساحتين كبيرتين نسبيا من الماء . ص 28

18- الموقع الفلكي : هو نقطة من الكرة الارضية يتحدد موقعها بخطوط الطول ودوائر العرض . ص 31

19- الموقع النسبي : هو موقع الدولة بالنسبة لليابسة والماء . ص 33

20- الجبل : هو كل ما ارتفع من الارض وله قمة لا يقل ارتفاعها عن 1000 متر . ص 38


21- التل : هو كل ما ارتفع من الارض وله قمة يقل ارتفاعها عن 1000 متر . ص 38

22- الهضبة : ارض مرتفعة سطحها مستو ويمتد على مساحة كبيرة . ص 40

23- السهول : مساحة كبيرة من سطح الارض تتميز باستوائها وقلة ارتفاعها . ص 42

24- السهول الفيضية (النهرية) : هي الاراضي المنخفضة التي تكونت من التربة التي تحملها مياه الانهار . ص 42

25- السهول الساحلية : هي الاراضي المنبسطة التي تجاور سواحل البحار والمحيطات . ص 42



الوحدة الثانية



السؤال الاول : اكتب المفاهيم او المصطلحات الدالة على العبارات التالية :

- 1- (الحضارة) كل ما يطرأ على المجتمع من تقدم وتطور في جميع نواحي الحياة الدينية والسياسية والاقتصادية والاجتماعية والفكرية ص71
- 2- (البعث والخلود) اعتقد المصريون القدماء ان الحياة تعود الى الجسم بعد الموت ص76
- 3- (بلاد الرافدين) بلاد ما بين النهرين ، ويطلق عليها حالياً اسم العراق. ص 79
- 4- (أوال) اسم أطلق على البحرين قديماً نسبة إلى صنم اسمه أوال كانت تعبده قبيلة وائل التي حكمت البحرين آنذاك ص89
- 5- (الديانة اليهودية) الديانة التي نزلت على سيدنا موسى عليه السلام وكتابها التوراة . ص 90
- 6- (الديانة المسيحية)الديانة التي نزلت على سيدنا عيسى بن مريم عليه السلام وكتابها الإنجيل . ص 90
- 7- (الديانة الإسلامية)الديانة التي نزلت على سيدنا محمد صلى الله عليه وسلم عام 610 م في مكة المكرمة وكتابها القرآن الكريم . ص 90

السؤال الثاني : أكمل العبارات التالية بما يناسبها فيما درست :

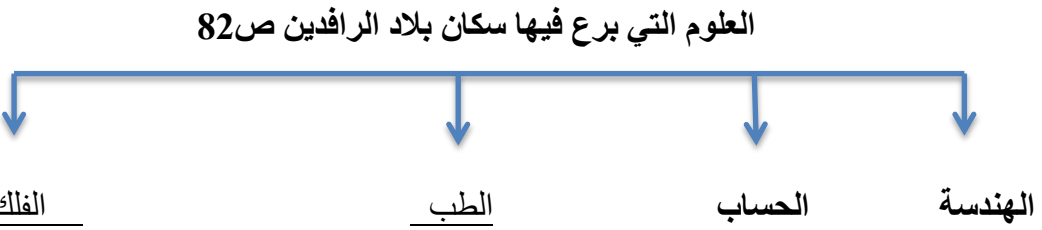
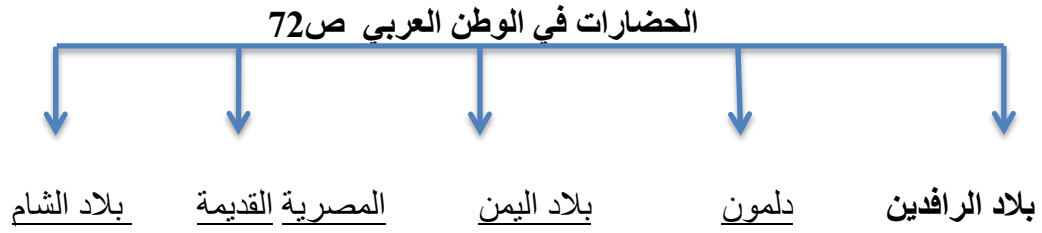
- 1.يطلق اسم بلاد الرافدين أو بلاد ما بين النهرين على دولة عربية حالياً تسمى العراق ص 79
- 2.من العوامل التي ساعدت في ازدهار الحياة الاقتصادية في بلاد الرافدين هي الزراعة والتجارة و الصناعة ص 81-82
- 3.الكتابة التي اخترعها السومريون قديماً تسمى المسمارية ص83
- 4.حروف الكتابة المسمارية تشبه المسمار ص 83
- 5.الكتابة المسمارية تكتب على ألواح من الطين ص 83
- 6.عدد حروف الكتابة المسمارية يبلغ 600 ص 83
- 7.أشهر ملوك الحضارة البابلية في بلاد الرافدين ملك يسمى حمورابي ص 84
- 8.ظهرت شرائع قانونية قديمة من أهمها شريعة حمورابي في بلاد الرافدين ص 84
- 9.يبلغ عدد المواد القانونية لشريعة حمورابي التي ظهرت في بلاد الرافدين هي 282 مادة ص 84

10. تقع حضارة حمير بالنسبة لليمن في جهة تسمى الجنوب ص 85
11. تقع حضارة معين بالنسبة لليمن في جهة تسمى الشمال ص 85
12. أهم مدن حضارة سبأ مدينة اسمها تسمى مأرب ص 85
13. أشهر ملوك سبأ التي ورد ذكرها في القرآن الكريم تسمى بليقيس ص 86
14. أشهر ممالك اليمن القديمة التي ورد ذكرها في القرآن الكريم مملكة تسمى سبأ ص 86
15. أشهر سدود جنوب غرب شبه الجزيرة العربية يسمى سد مأرب ص 86
16. الخط الذي كانت تكتب به الأبجدية في حضارة جنوب غرب شبه الجزيرة العربية هو الخط المسند ص 87
17. عدد حروف الأبجدية في حضارة جنوب غرب شبه الجزيرة العربية تتألف من 29 حرفاً ص 87
18. الاسم الذي أطلق على البحرين قديماً قبل الفتح الإسلامي تسمى أوال ص 89
19. نزل القرآن الكريم على سيدنا محمد صلى الله عليه وسلم عام 610 م ص 90
20. نزل القرآن الكريم على سيدنا محمد صلى الله عليه وسلم في مدينة تسمى مكة المكرمة ص 90
21. الكتاب الذي أنزل على سيدنا موسى - عليه السلام - يسمى التوراة ص 90
22. الكتاب الذي أنزل على سيدنا محمد صلى الله عليه وسلم يسمى القرآن الكريم ص 90
23. الكتاب الذي أنزل على سيدنا عيسى بن مريم - عليه السلام - يسمى الانجيل ص 90
24. الدولة التي ولد فيها سيدنا عيسى بن مريم - عليه السلام - تسمى فلسطين ص 90
25. ولد سيدنا عيسى بن مريم - عليه السلام - في عام 1ميلادي ص 90
26. كان للحضارة العربية الإسلامية فضل كبير في إثراء الحضارة الأوروبية منذ القرن العاشر الميلادي ص 92

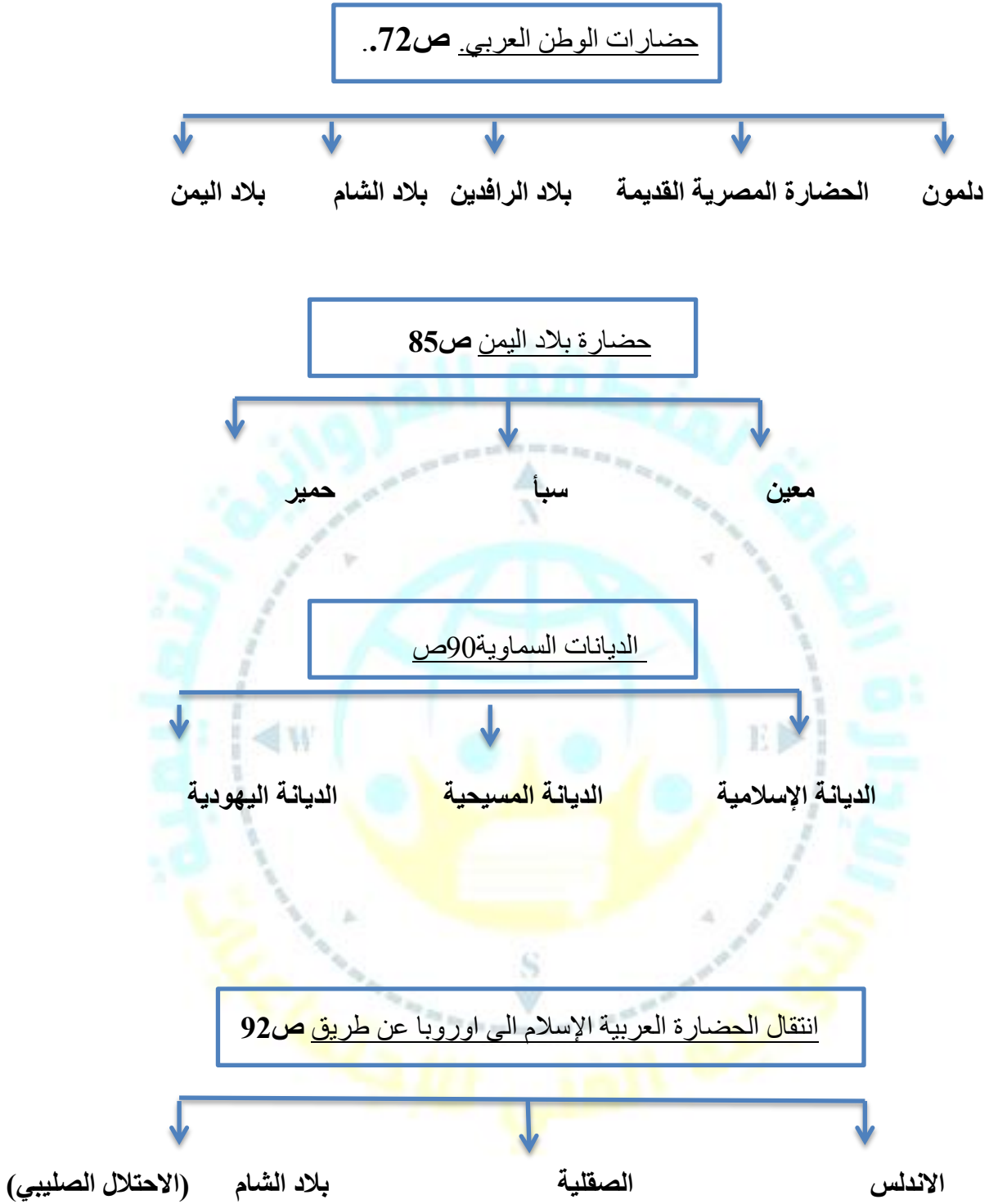
السؤال الثالث : ضع خطأ تحت الخيار الصحيح من بين الخيارات التي التالية :

1. يطلق اسم بلاد الرافدين أو بلاد ما بين النهرين على دولة عربية حالياً : ص 79
العراق - سوريا - الصومال - المغرب
2. عدد حروف الكتابة المسمارية يبلغ : ص 83
500 - 600 - 700 - 800
3. أشهر ملوك الحضارة البابلية في العراق ملك : ص 84
حمورابي - سرجون - أشور بنيبال - نبوخذ نصر
4. ظهرت شرائع قانونية قديمة من أهمها شريعة حمورابي في : ص 84
بلاد اليمن - بلاد الشام - بلاد الرافدين - دلمون
5. يبلغ عدد المواد القانونية لشريعة حمورابي : ص 84
252 مادة - 262 مادة - 272 مادة - 282 مادة
6. أشهر ملوك سبأ التي ورد ذكرها في القرآن الكريم ملكة اسمها : ص 86
بلقيس - شجرة الدر - كليوباترا - نفرتيتي
7. حروف الأبجدية في حضارة جنوب غرب شبه الجزيرة العربية تتألف من : ص 87
19 حرفاً - 29 حرفاً - 39 حرفاً - 49 حرفاً
8. نزل القرآن الكريم على سيدنا محمد صلى الله عليه وسلم في عام : ص 90
610 م - 620 م - 630 م - 640 م
9. نزل القرآن الكريم على سيدنا محمد صلى الله عليه وسلم في مدينة : ص 90
المدينة المنورة - الطائف - مكة المكرمة - الرياض

السؤال الرابع : أكمل المخطط السهمي التالي :



.....





السؤال الخامس : صوب ما تحته خط في العبارات التالية:

- 1- احرز المصريون القدماء تقدماً كبيراً في مجال العلوم والفنون والتحنيط والبناء والكتابة التي عرفت عندهم بالكتابة المسمارية ص 77 (الكتابة الهيروغليفية)
- 2- من المعتقدات التي سادت بين المصريون القدماء ان الحياة تعود الى الجسم بعد الموت وسمي ذلك ببناء القبور ص 76 (البعث والخلود)
- 3- يطلق اسم بلاد الرافدين أو بلاد ما بين النهرين على دولة عربية تسمى الجزائر (العراق) ص 79
- 4- الكتابة التي اخترعها السومريون قديماً تسمى الهيروغليفية (المسمارية) ص 83
- 5- عدد حروف الكتابة المسمارية يبلغ 500 (600) ص 83
- 6- أشهر ملوك الحضارة البابلية في العراق ملك يسمى أشور بنيبال (حمورابي) ص 84
- 7- ظهرت شرائع قانونية قديمة من أهمها شريعة حمورابي في بلاد الشام (الرافدين) ص 84
- 8- يبلغ عدد المواد القانونية لشريعة حمورابي 262 مادة (282) ص 84
- 9- تقع حضارة حمير بالنسبة لليمن في جهة الشمال (الجنوب) ص 85
- 10- تقع حضارة معين بالنسبة لليمن في جهة الجنوب (الشمال) ص 85
- 11- أهم مدن حضارة سبأ مدينة اسمها قرناو (مأرب) ص 85
- 12- اشهر ملوك سبأ التي ورد ذكرها في القرآن الكريم ملكة اسمها نفرتي (بلقيس) ص 86
- 13- أشهر ممالك اليمن القديمة ورد ذكرها في القرآن الكريم تسمى حمير (سبأ) ص 86

14- أشهر سدود جنوب غرب شبه الجزيرة العربية سد الخانق (مأرب) ص 86

15- الخط الذي كانت تكتب به الأبجدية في حضارة جنوب غرب شبه الجزيرة العربية هو الخط النسخ (المسند) ص 87

16- حروف الأبجدية في حضارة جنوب غرب شبه الجزيرة العربية تتألف من 49 (29) ص 87

17- نزل القرآن الكريم على سيدنا محمد صلى الله عليه وسلم عام 620 م (610 م) ص 90

18- نزل القرآن الكريم على سيدنا محمد صلى الله عليه وسلم في المدينة المنورة (مكة المكرمة) ص 90

19- الكتاب الذي أنزل على سيدنا موسى - عليه السلام - هو الإنجيل (التوراة) ص 90

20- الكتاب الذي أنزل على سيدنا عيسى بن مريم - عليه السلام - هو التوراة (الإنجيل) ص 90

21- ولد سيدنا عيسى بن مريم - عليه السلام - في عام 23 م (1 م) ص 90

22- كان للحضارة العربية الإسلامية فضل كبير في إثراء الحضارة الأوروبية منذ القرن الخامس الميلادي (العاشر الميلادي) ص 92

السؤال الخامس : استنتج الرابط المشترك بين العناصر التالية :

1- (تنوع الصخور والمعادن + امتداد الصحراء نهر النيل + اعتدال المناخ وجفافه) (عوامل ساعدت على قيام الحضارة المصرية القديمة) ص 75

2- (توافر العنصر البشري + اعتدال المناخ + توافر الثروات الطبيعية + توافر مصادر المياه العذبة + الموقع الاستراتيجي) (عوامل قيام الحضارة) ص 73

3- (السومريون + الأكاديون + الكلدانيون + البابليون + الآشوريون) (أهم الحضارات التي قامت في بلاد الرافدين) ص 80

4- (معين + سبأ + حمير) (حضارات بلاد اليمن) ص 85

5- (الديانة الإسلامية + الديانة اليهودية + الديانة المسيحية) (الديانات السماوية) ص 90

السؤال السادس : ضع علامة صح امام العبارة الصحيحة وعلامة خطأ امام العبارة الخاطئة :

م	العبارة	العلامة
1	اهم الاثار للحضارة المصرية القديمة الموجودة في وقتنا الحاضر هي الاهرامات وابو الهول ص74	✓
2	تنوع الصخور والمعادن لن تساعد المصريين القدامى على نحت التماثيل وبناء المعابد ص75	✗
3	تعتبر الاهرامات من مظاهر الحضارة المصرية القديمة ص72	✓
4	سيطر على بلاد الرافدين خلال تاريخها القديم ثلاثة شعوب متتالية . ص 79	✗
5	سميت الحضارات التي قامت في بلاد الرافدين بأسماء المناطق والمدن التي قامت فيها.ص79	✓
6	تنوعت الصناعات في بلاد الرافدين واشتهرت بصناعة الحلي . ص 82	✓
7	تطورت العلوم لدى سكان بلاد الرافدين . ص 82	✓
8	عدد حروف الكتابة المسمارية يبلغ 500 حرف . ص 83	✗
9	يبلغ عدد المواد القانونية لشريعة حمورابي 262 مادة ص 84	✗
10	كان أهل اليمن أسياة التجارة العربية . ص 87	✓
11	امتدت تجارة أهل اليمن بين شمال شبه الجزيرة العربية وجنوبها ص 87	✓
12	قامت دلمون وسط حضارات الشرق القديم . ص 88	✓
13	نزل القرآن الكريم على سيدنا محمد صلى الله عليه وسلم عام 620 م ص90	✗

✓	ص 90	نزل القرآن الكريم على سيدنا محمد صلى الله عليه وسلم في مكة المكرمة	14
✓	ص 90	يعتبر الإسلام خاتم الرسالات السماوية جميعاً .	15
✗	ص 90	الكتاب الذي أنزل على سيدنا عيسى بن مريم - عليه السلام - اسمه التوراة	16
✓	ص 92	كان للحضارة العربية الإسلامية فضل كبير في إثراء الحضارة الأوروبية منذ القرن العاشر الميلادي	17

السؤال السابع : صنف الكلمات التالية الى مكانها المناسب في الجدول التالي :

(نهر النيل - تنوع الصخور والمعادن - اعتدال المناخ وجفافه) ص 75

ربط بين اجزاء البلاد من الشمال الى الجنوب وساعدت على الاستقرار	المحافظة على الآثار من التلف	ساعدت المصريين على نحت التماثيل وبناء المعابد
<u>نهر النيل</u>	<u>اعتدال المناخ وجفافه</u>	<u>تنوع الصخور والمعادن</u>

السؤال الثامن : من أنا :

- أنا ملك بابلي .

- احتوت شريعتي على 282 مادة .

حمورابي ص 84

- أنا ملكة .

- حكمت مملكة سبأ .

- أشير لي بالقرآن الكريم

بلقيس ص 86

سبها من المجموعة (ب) وذلك بوضع الرقم المناسب : ص 85

ب	الرقم	أ	
حمير	3	قرناو	1
معين	1	مأرب	2
سبأ	2	ريدان	3
دلمون	-		

ص 90

ب	الرقم	أ	
الانجيل	2	الاسلام	1
التوراه	3	المسيحية	2
القران الكريم	1	اليهودية	3
الزبور	-		

السؤال العاشر: أعد ترتيب حضارات بلاد اليمن تصاعدياً من الأقدم إلى الأحدث: ص 85

(سبأ - حمير - معين)

معين
سبأ
حمير

السؤال الاول : على لما يلي :

1- حرص المصريين القدماء على تحنيط جثث موتاهم . ص76

أ-اعتقد المصريون القدماء ان الحياة تعود الى الجسم بعد الموت .

2-عرف سكان بلاد الرافدين الزراعة . ص81

أ-خصوبة تربتها ب – سعة سهولها

ج – وفرة مياهها د- إقامة السدود / تجفيف المستنقعات / استصلاح الأراضي

3-انتشار الأمن والأمان في بلاد الرافدين . ص 84

أ- بسبب ظهور الشرائع القانونية القديمة من أهمها شريعة حمورابي .

4- تعد منطقة جنوب غرب شبه الجزيرة العربية من أكثر مناطق شبه الجزيرة العربية ملائمة لقيام الحضارة . ص

85

أ-توافر المياه العذبة

ب-المناخ المناسب لقيام الزراعة

ج – الموقع الذي يسمح بقيام النشاط التجاري فيها .

5- تعد حضارة (دلمون) مركزاً مهماً للمواصلات والتجارة البحرية . ص 88

أ -بحكم موقعها وسط الخليج العربي .

6- كانت أوروبا تعيش في عصور الظلام . ص 92

أ- سيطرة الكنيسة على عقول الناس .

السؤال الثاني : أجب عن الأسئلة التالية :

1- ما اسم النهرين في بلاد الرافدين . ص 79

أ- نهر دجلة ب - نهر الفرات .

2- ما هي مميزات بلاد الرافدين . ص 79

أ - الموقع الممتاز

ب - خصوبة تربتها

ج - وفرة مياهها العذبة .

3- أهم ما اشتهرت به الحضارات التي قامت في بلاد الرافدين . ص 79

أ - التقدم ب - الرقي بما قدمته للإنسانية من إنجازات .

4- ما أهم الحضارات التي قامت في بلاد الرافدين . ص 80

أ- السومريون ب- الأكاديون

ج - الكلدانيون د - البابليون

هـ - الآشوريون .

5- ما هي الحضارات الموجودة في الوطن العربي : ص 72

أ- بلاد اليمن . ب - المصرية القديمة

ج - بلاد الشام. د - دلمون

هـ - بلاد الرافدين.

6- ما هي أهم الصناعات التي اشتهرت بها بلاد الرافدين . ص 82

أ - صناعة الحلي

ب-الأواني الفخارية .

7- ما هي العلوم التي برع فيها سكان بلاد الرافدين . ص 82

أ-الهندسة ب- الحساب ج - الفلك د - الطب .

8- ما أهم الفنون لدى بلاد الرافدين . ص 82

أ-فن النحت ب - البناء ج - الرسم د - الأواني الفخارية .

9-ما هي النتيجة التي حققتها شريعة حمورابي في بلاد الرافدين ؟ ص 84

أ -انتشار الأمن والأمان في بلاد الرافدين .

10- ما أهم ما أشتهر به سكان جنوب غرب شبه الجزيرة العربية . ص 86

أ - المشاريع الزراعية من خلال تنظيم عملية الري عن طريق بناء السدود والخزانات .

11- ما أشهر المنتجات الزراعية لحضارة جنوب غرب شبه الجزيرة العربية . ص 86

أ - الموز ب - اللبان ج - القرفة .

12- ما هي الحضارات المجاورة لحضارة جنوب غرب شبه الجزيرة العربية والتي تبادلت معها التجارة . ص 87

أ-حضارة بلاد مصر القديمة ب- حضارة بلاد الرافدين ج - حضارة بلاد الشام .

13- أذكر حضارتين من الحضارات المجاورة لحضارة دلمون . ص 88

أ - حضارة بلاد الرافدين ب - حضارة بلاد اليمن .

14- ما أهم الأنشطة الاقتصادية لحضارة دلمون . ص 88

أ-الزراعة ب- صيد الأسماك ج- الغوص على اللؤلؤ .

15- ما هي الديانات السماوية التي أكسبت الوطن العربي مكانة روحية مقدسة . ص 90

أ - الديانة اليهودية ب - الديانة المسيحية ج- الديانة الإسلامية .

16- ما أهم الأسس التي بنيت عليها حضارة العرب في ظل الإسلام . ص 92

أ-الإسلام وتعاليمه : الصلاة - الصوم - الزكاة

ب-مبادئ الإسلام المتمثلة في الشورى والعدل والمساواة

ج - اللغة العربية : انتشرت اللغة العربية وأصبحت الرابطة الأساسية التي ربطت أجزاء الدولة بعضها ببعض .

17- عدد مراكز الإشعاع التي انتقلت الحضارة العربية الإسلامية إلى أوروبا بفضلها . ص 92

أ - الاندلس ب - صقلية ج - عن طريق الاحتلال الصليبي لبلاد الشام

18 - ما عوامل قيام الحضارة (للحضارة مقومات اساسيه لا بد من توافرها اذكريها : ص73

1- اعتدال المناخ 2-الموقع الاستراتيجي. 4-توافر العنصر البشري

3-توافر مصادر المياه. 5-توافر الثروات الطبيعية

السؤال الثالث : دلل على ما يلي :

1- أن الله - سبحانه وتعالى - تكفل بحفظ القرآن الكريم من التحريف والتغيير . ص 90

• قال الله تعالى في كتابه الحكيم ((إنا نحن نزلنا الذكر وإنا له لحافظون)

السؤال الرابع : عرف المفاهيم التالية:

1- الحضارة: بكل ما يطرأ على المجتمع من تقدم وتطور في جميع نواحي الحياة الدينية والسياسية والاقتصادية

والاجتماعية والفكرية ص71

2-البعث والخلود: اعتقد المصريون القدماء ان الحياة تعود الى الجسم بعد الموت ص76

3-بلاد الرافدين : وتعني بلاد ما بين النهرين ، ويطلق عليها حالياً اسم العراق ص 79

4-أوال : اسم أطلق على البحرين قديماً نسبة إلى صنم اسمه أوال كانت تعبده قبيلة وائل التي حكمت البحرين آنذاك . ص89

5-الديانة اليهودية : وهي التي نزلت على سيدنا موسى عليه السلام وكتابها التوراة . ص 90

6-الديانة المسيحية : هي التي نزلت على سيدنا عيسى بن مريم عليه السلام وكتابها الإنجيل . ص 90

السؤال الخامس : اقرأ الفقرة التالية ثم اجب عما يليها من اسئلة:

نشطت الحياة في مصر القديمة بجميع نواحيها حيث تقدمت الزراعة وتطورت اساليبها وتنوعت المحاصيل الزراعية كالبقول والقمح والفواكه والكتان وتربية الماشية و قد مهر المصريين القدماء في الصناعة ايضا وخاصة صناعة الاواني الفخارية والمعدنية والملابس الكتانية والسفن والورق ص76

1- -ضعي عنوانا مناسباً للفقرة :

- الحياة الاقتصادية في الحضارة المصرية القديمة

2- اذكرى اهم الصناعات في الحضارة المصرية القديمة :

- الاواني الفخارية والمعدنية -الملابس الكتانية -السفن - الورق

2-عدي اهم المحاصيل الزراعية :

القمح-الفواكه -البقول-الكتان



اخترع السومريون نوعاً من الكتابة عرفت باسم الكتابة المسمارية ، وتعد هذه الكتابة من أقدم أنواع الكتابة في العالم وحروفها تشبه المسمار ، وتكتب على ألواح من الطين الطري بواسطة أقلام تشبه المسامير ، وعدد حروفها

600 حرف . ص 83

أ	ب	ج	د
هـ	و	ز	ح
ط	ي	ك	ل
م	ن	س	ع
ف	غ	ث	ص
ض	ظ	ق	ر

1 - اقترح عنواناً مناسباً للفقرة .

• الحياة الفكرية في بلاد الرافدين .

2- ماذا تشبه حروف الكتابة المسمارية ؟

• المسمار .

3- ما الأدوات المستخدمة في الكتابة المسمارية ؟

• ألواح من الطين - أقلام تشبه المسامير .

4- كم يبلغ عدد حروف الكتابة المسمارية ؟

600 حرف

السؤال السادس : لاحظ الصورة التي أمامك ثم أجب عن الأسئلة التالية : ص 84



1- ما اسم الشخصية التي في الصورة ؟

-حمورابي .

2- كم يبلغ عدد المواد القانونية لشريعته ؟

-282 مادة .

3- ما أهم ما أشتهر به ؟

-شريعة حمورابي .

4- ما المبدأ الذي أعتمد عليه ؟

-السن بالسن والعين بالعين

السؤال السابع : قارن بين كل من : حسب الجدول التالي : ص 90

أوجه المقارنة	اسم الكتاب	اسم النبي
الديانة الإسلامية	القرآن الكريم	محمد صلى الله عليه وسلم
الديانة اليهودية	التوراة	موسى عليه السلام

2- اكتب الأسماء التالية في مكانها المناسب في الجدول التالي : ص 90

(الإنجيل – موسى عليه السلام – القرآن الكريم – عيسى عليه السلام – التوراة – محمد صلى الله عليه وسلم)

الكتاب	النبي
القران الكريم	محمد صل الله عليه وسلم
التوراة	موسى عليه السلام
الانجيل	عيسى عليه السلام

3- صنف المنتجات التجارية التالية من وإلى بلاد الرافدين حسب الدول التالي ص 81

(المنتجات الزراعية - المنسوجات - المعادن - الأحجار - الأخشاب)

الواردات	الصادرات
المعادن	المنتجات الزراعية
الأحجار	المنسوجات
الأخشاب	

السؤال الثامن : لاحظ الصور التي امامك ثم اكتب اسم الحضارة التابعة لها : ص 72-73



اسم المعلم الحضاري معبد باربار
الحضارة:.....دلمون.....



اسم المعلم الحضاري سد مأرب
الحضارة: .. بلاد اليمن



اسم المعلم الحضاري الاهرامات
الحضارة:.....المصرية القديمة




اسم المعلم الحضاري اثار تدمر
الحضارة:.....بلاد الشام.....

اسم المعلم الحضاري أسد بابل
الحضارة:.. بلاد الرافدين..



السؤال التاسع : ضع عنواناً مناسباً للصور التالية:



طبيعة بلاد الرافدين ص 81



حدائق بابل المعلقة ص 82



أنية فخارية تعود للعصر الأكادي ص 82



عقد بابلي ص 82



حمورابي ص 84



مسلة حمورابي ص 84



نقش سبأ بالخط المسند ص 85



مدينة يثل الدينية في معين ص 85



فن النحت ص 82



بقايا مأرب ص 76



الطبيعة في اليمن ص 86



راس الثور ص 88



مائة قرابين تعود لمملكة حمير ص 85

ختم يعود لحضارة دلمون ص 88

2- اكتب اسماء الاماكن المقدسة الموجودة في الصور : ص 91

..... مسجد قباء



..... مكة المكرمة

..... المدينة المنورة



3- ضع عنواناً مناسباً للخريطة التالية :

خريطة توضح الممالك التي قامت في بلاد
الرافدين ص 79



خريطة توضح مملكة البحرين ص 88




السؤال العاشر : أمامك خريطة حضارات بلاد اليمن الصماء نفذ المطلوب عليها : ص 85

• حضارة معين يمثلها على الخريطة الرقم (2) .

• حضارة سبأ يمثلها على الخريطة الرقم (1) .

• حضارة حمير يمثلها على الخريطة الرقم (3) .

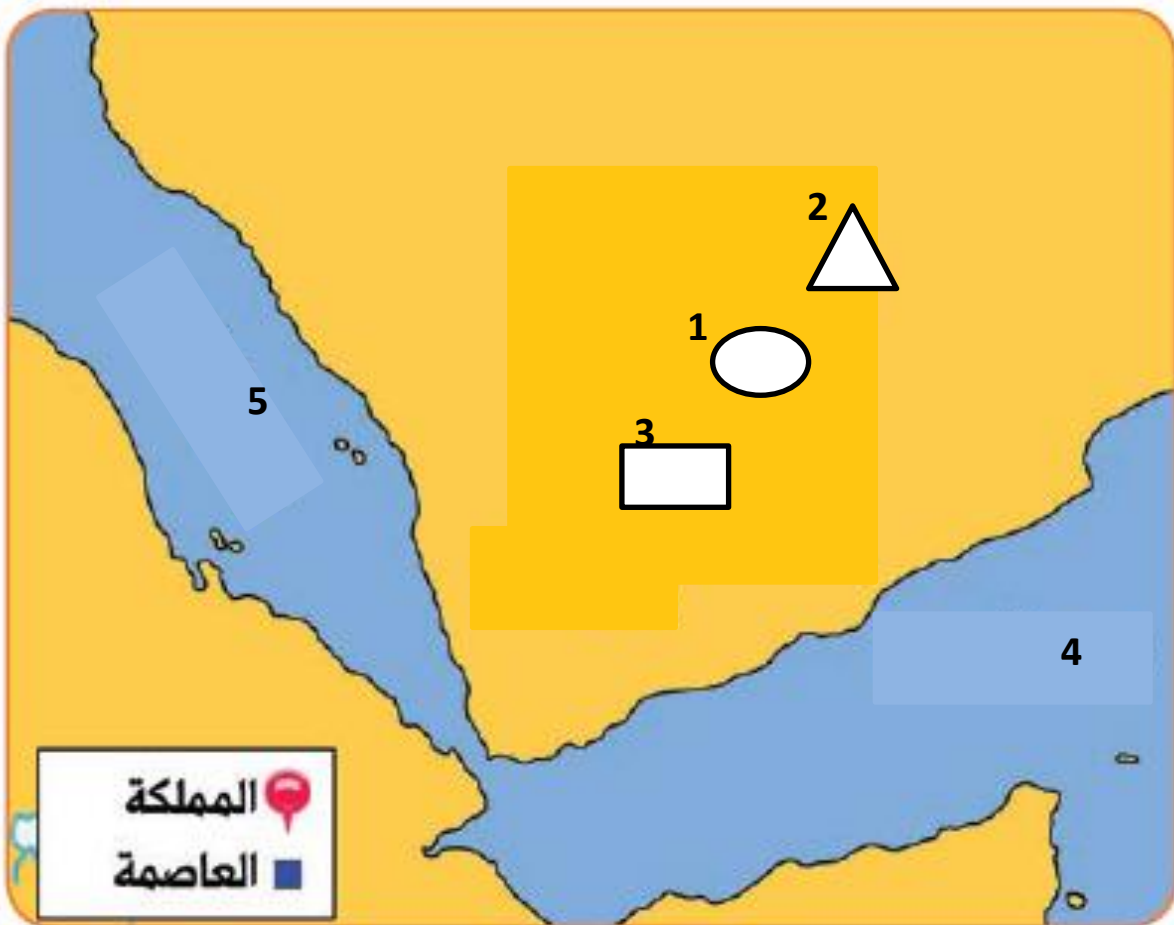
• الشكل  يرمز إلى عاصمة اسمها قرناو .

• الشكل  يرمز إلى مدينة اسمها مأرب .

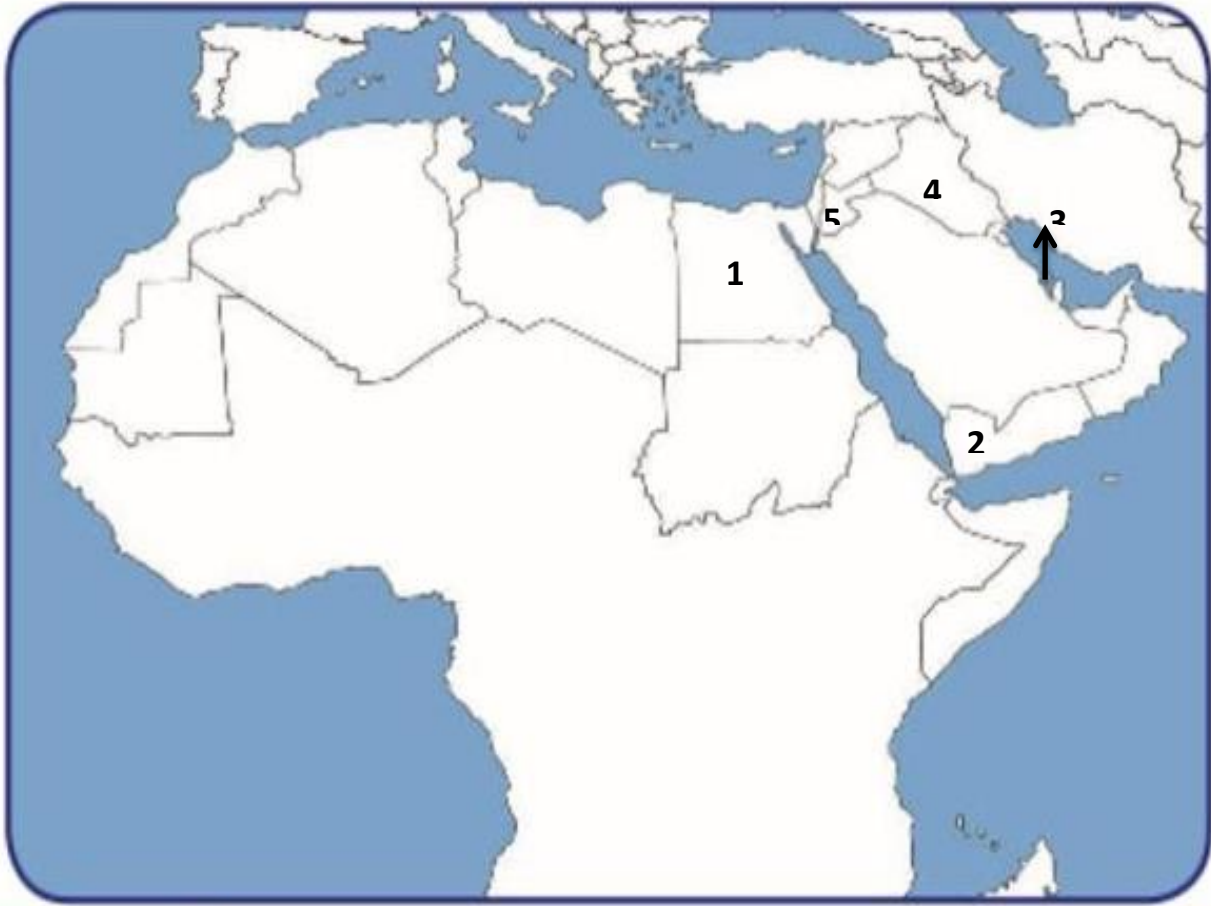
• الشكل  يرمز إلى مدينة اسمها ريدان .

• بحر القلزم يمثل على الخريطة الرقم (5) .

• بحر العرب يمثل على الخريطة الرقم (4) .



امامك خريطة الوطن العربي اكتب الرقم الدال على العبارات التالية: ص71



- حضارة دلمون تمثل رقم3.....
- حضارة مصر القديمة تمثل رقم1.....
- حضارة بلاد الشام تمثل رقم5.....
- حضارة بلاد اليمن تمثل رقم2.....
- حضارة بلاد الرافدين تمثل رقم4.....



الوحدة الثالثة الثالثة



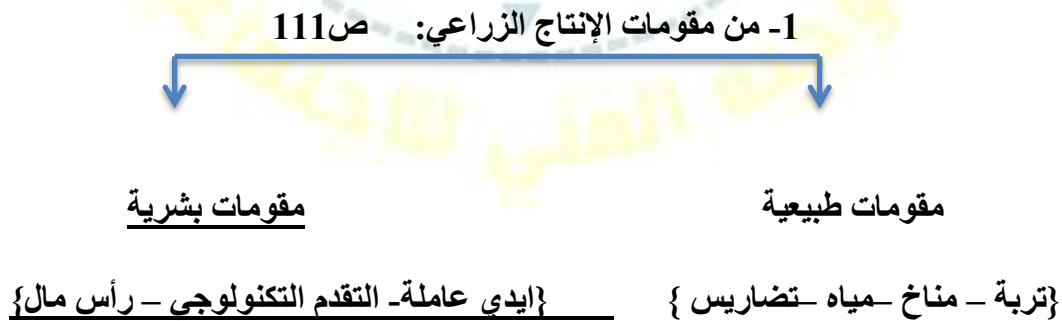
السؤال الاول : أكملى العبارات التالية:

- 1- يبلغ عدد سكان الوطن العربي حوالي 382 مليون نسمة ص 99
- 2- تبلغ مساحة الوطن العربي حوالي 13,5 مليون كم² ص 99
- 3- يبلغ عدد دول الوطن العربي من 22 دولة ص 99
- 4- يتوزع سكان الوطن العربي بين قارتي آسيا و أفريقيا ص 99
- 5- يتوزع سكان الوطن العربي بنسبة 70% في القارة الافريقية ونسبة 30% في القارة الآسيوية ص 99
- 6- تم اجراء أول تعداد سكاني في دولة الكويت عام 1957 ص 99
- 7- أنشأت الإدارة المركزية للإحصاء في الكويت عام 1963 ص 99
- 8- أكبر الدول العربية من حيث المساحة في الجناح الافريقي هي الجزائر ص 100
- 9- أصغر الدول العربية مساحة في الجناح الافريقي هي جزر القمر ص 100
- 10- أكبر الدول العربية مساحة في الجناح الآسيوي هي السعودية ص 100
- 11- أصغر الدول العربية مساحة في الجناح الآسيوي هي البحرين ص 100
- 12- أكثر الدول العربية من حيث عدد السكان في الجناح الافريقي هي مصر ص 100
- 13- أقل الدول العربية من حيث عدد السكان في الجناح الافريقي هي جزر القمر ص 100
- 14- أكثر الدول العربية من حيث السكان في الجناح الآسيوي هي العراق ص 100
- 15- أقل الدول العربية من حيث عدد السكان في الجناح الآسيوي هي البحرين ص 100
- 16- يبلغ عدد السكان في الجناح الآسيوي حوالي 150,925 مليون نسمة ص 100
- 17- يبلغ عدد السكان في الجناح الافريقي حوالي 231384 مليون نسمة ص 100
- 18- الدولة التي تعاني من سوء توزيع السكان في الوطن العربي هي مصر ص 102
- 19- القطاع الذي يمثل المرتبة الأولى من اقتصاد الوطن العربي القطاع الزراعي ص 110
- 20- من أهم المزروعات في الوطن العربي الحبوب الغذائية ص 113

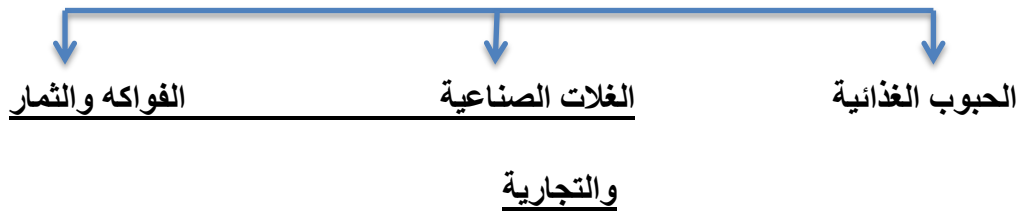
- 21- تمتلك الصومال من ثروة الوطن العربي الرعوية {الابل} حوالي 6,6% ص 118
- 22- المزروعات التي تتطلب ظروف مناخية خاصة وتتركز معظمها في حوض البحر المتوسط الفواكه والثمار ص 113
- 23- الدولة العربية التي تحتل المركز الأول في انتاج محصول الذرة هو مصر ص 114
- 24- الدولة العربية التي تحتل المركز الأول في انتاج محصول الأرز هو مصر ص 114
- 25- الدولة العربية الأولى في انتاج محصول قصب السكر هو مصر ص 114
- 26- الدولة العربية الأولى في انتاج القطن والموايح هو مصر ص 114
- 27- تبلغ مساحة الأراضي المزروعة في الوطن العربي حوالي 56% ص 116
- 28- أكثر أنواع الثروة الرعوية انتشارا في الوطن العربي هي الأغنام ص 118
- 29- الدولة العربية الأولى في انتاج الأغنام والماعز والأبقار هي السودان ص 118
- 30- الدولة العربية الأولى في انتاج الابل هي الصومال ص 118
- 31- الدولة العربية الأولى في انتاج الثروة السمكية هي مصر ص 123
- 32- الدولة العربية الأولى في انتاج النفط واحتياطه هي السعودية ص 129
- 33- أولى الدول العربية في انتاج واحتياط الغاز الطبيعي هي قطر ص 129
- 34- الدولة التي تحتل المركز الثالث بإنتاج واحتياط النفط هي الكويت ص 129
- 35- الدولة التي تحتل المركز الثاني في انتاج واحتياط النفط هي العراق ص 129
- 36- الدولة العربية التي تحتل المركز الأول في انتاج المعادن {فوسفات- نحاس- رصاص- منجنيز} هي المغرب ص 132
- 37- الدولة العربية التي تحتل المركز الأول في انتاج معدن الحديد هي موريتانيا ص 133
- 38- الأوبك هي منظمة عالمية مصدرة للنفط تأسست عام 1960 ص 134
- 39- الأوبك هي منظمة عربية مصدرة للنفط تأسست عام 1968 ص 135
- 40- صناعات تقتصر على استخراج مصادر الطاقة هي الصناعات الاستخراجية ص 141
- 41- تعتبر من الصناعات الأولى في العالم هي الصناعات الحرفية ص 143

- 42- نسبة الصادرات بين الدول العربية 8% أما الواردات 7,4% ص 151
- 43- الأسواق التي تحتل المكانة الأولى بالنسبة للصادرات العربية هي الأسواق الأوروبية ص 152
- 44- يتفوق الجناح الآسيوي على الجناح الأفريقي بإنتاج النفط واحتياطيه والغاز الطبيعي ص 128
- 45- أكبر تجمع لسكان يكون حول الأنهار والبحار و مصادر المياه ص 105
- 46- يقدر معدل النمو السكاني في الوطن العربي بحوالي 2,20 حسب إحصائيات 2006 عام ص 106
- 45- يرجع النمو السكاني بالوطن العربي الى عاملين هما الزيادة الطبيعية و الزيادة الغير طبيعية /الهجرة ص 106
- 46- يشكل القطاع الزراعي حوالي 50% من الاقتصاد العربي ص 110
- 47- المدينة التي يقع فيها مقر منظمة الدول المصدرة لنفط اوبك هي فيينا ص 134
- 48- المدينة التي يقع فيها مقر منظمة اوبك هي الكويت ص 135
- 49- تبلغ نسبة انتاج النفط في منطقة دول الخليج العربية وسهول دجلة والفرات ب 80% ص 126
- 50- تبلغ نسبة انتاج النفط في منطقة الصحراء الكبرى ب 18% ص 126
- 51- تبلغ نسبة انتاج النفط في منطقة خليج السويس ب 4,7% ص 126

السؤال الثاني : أكمل المخطط السهمي التالي:



2- المحاصيل الزراعية في الوطن العربي ص 113



3- يمتلك الوطن العربي أنواع كثيرة من الثروة الرعوية ص 117



4- من مراحل الصناعة ص 137



5- من مقومات الصناعة: ص 139

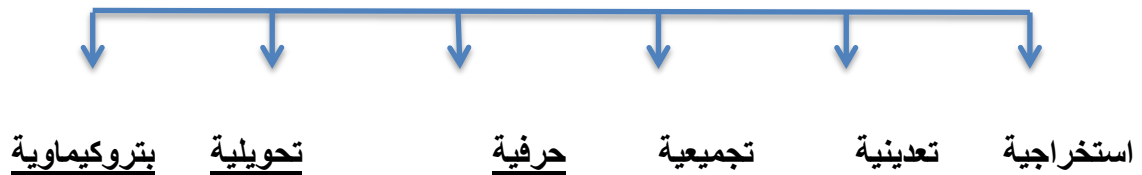


{رؤوس أموال - وسائل النقل

(مواد خام - الطاقة)

السوق - أيدي عاملة - المهارة والخبرة}

6- أنواع الصناعات في الوطن العربي ص 141



7- تقسم مناطق الوطن العربي من حيث الكثافة : ص 103



8- العوامل المؤثرة في توزيع السكان : ص 104



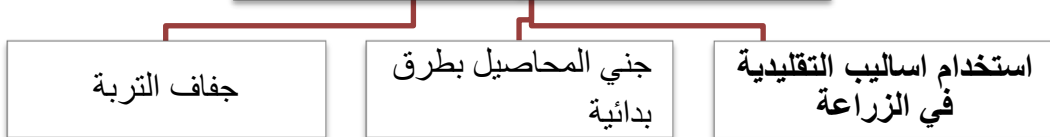
9- من أنواع الإنتاج الحيواني: ص 117

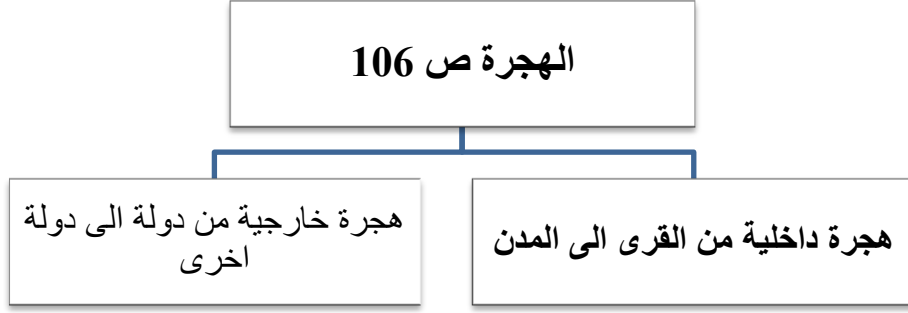


الزيادة السكانية ص 106



د- المشكلات التي تعاني منها الزراعة في الوطن العربي ص 115





- السؤال الثالث: ضع خطا تحت الخيار الصحيح بين الخيارات التي تلى كل عبارة :

1- يأتي القطاع الزراعي في المرتبة الأولى من اقتصاد الوطن العربي بنسبه ص110

20% - 30% - 40% - 50%

2- يقدر معدل النمو السنوي السكاني في الوطن العربي حوالي ص106

2,20% - 2,21- - 2,22 - - 2,23-

2- يقدر معدل النمو السنوي العالمي للسكان حوالي ص106

1,6% - 1,7% - 1,8% - 1,9%

4- الدولة التي تحتل المركز الثالث بإنتاج واحتياط النفط ص129

السعودية - الكويت - العراق - الامارات

5- يحتل الجناح الاسيوي من انتاج النفط بنسبة ص128

88% - 89% - 90% - 91%

السؤال الرابع : قارن بين كلا من : ص 99

الإحصاء الحيوي	التعداد السكاني	أوجه المقارنة
تسجيل المواليد والوفيات وحالات الزواج والطلاق ونحصل على بياناتها من واقع السجلات الرسمية للدولة	حصول الدولة على معلومات وافية عن اوضاع سكانها : عددهم – عدد كل جنس – اعمارهم وغير ذلك من معلومات	التعريف

ص 100

الجناح الأفريقي	الجناح الآسيوي	أوجه المقارنة
السودان	السعودية	الدولة الأكثر مساحة
جزر القمر	البحرين	الدولة الأقل مساحة
مصر	العراق	الدولة الأكثر عدد سكان
جزر القمر	البحرين	الدولة الأقل عدد سكان

ص 109

الموارد البشرية	الموارد الطبيعية	أوجه المقارنة
الموارد التي ترتبط بالسكان من حيث اعدادهم وتوزيعهم ومناسبة اعدادهم لمساحة الارض التي يستغلونها	الثروات التي منحها الله تعالى لإقليم ما دون تدخل الانسان {الثروات المعدنية - الموارد المائية الغابات – موقع الإقليم}	التعريف

-نسبة الجناح الآسيوي والجناح الأفريقي من إنتاج واحتياط النفط والغاز الطبيعي: ص 128

أوجه المقارنة	إنتاج النفط	احتياط النفط	إنتاج الغاز الطبيعي	احتياط الغاز الطبيعي
الجناح الآسيوي	%88	%90	%66,5	%82
الجناح الأفريقي	%12	%10	%33,5	%18

-نسبة الوطن العربي بالنسبة للعالم من إنتاج واحتياط النفط والغاز الطبيعي: ص 127

احتياط النفط	احتياط الغاز الطبيعي	إنتاج النفط	إنتاج الغاز الطبيعي
%55	%%27.5	%30	%16,5

-نسبة الوطن العربي من المعادن بالنسبة للعالم : ص 132

الفوسفات	الحديد	الرصاص	النحاس	المنجنيز
%25	%1,2	%6,6	%0,13	%3,3

أوجه المقارنة	منظمة الأوبك	منظمة الأوابك
التعريف	منظمة الدول مصدرة للنفط	منظمة الأقطار عربية مصدرة للنفط
سنة التأسيس	1960	1968
مقرها الحالي	فيينا	الكويت
الدول الاعضاء	11دولة الكويت-السعودية-العراق-ايران-فنزويلا-قطر الامارات-الجزائر-نيجيريا-أنغولا-الأكوادور	11دولة الكويت-السعودية-ليبيا-قطر-الامارات -البحرين-العراق-سوريا -مصر-تونس-الجزائر
الأجهزة	المؤتمر مجلس المحافظين-الأمانة العامة	المجلس الوزاري -المكتب التنفيذي الأمانة العامة
الأهداف	الحرص على استقرار اسعار النفط في الاسواق - العالمية	تعميق التعاون الاقتصادي في صناعة النفط -تطوير الصناعات البترولية - تأمين وصول - النفط للأسواق الاستهلاكية - بشروط واسعار عادلة

أوجه المقارنة ص 106	الزيادة الطبيعية	الزيادة الغير طبيعية
التعريف	الفرق بين معدل المواليد ومعدل الوفيات	الزيادة الناتجة عن الهجرة

أوجه المقارنة ص 106	الهجرة الداخلية	الهجرة الخارجية
التعريف	هجرة داخلية من القرى الى المدن	هجرة خارجية من دولة الى دولة اخرى

الواردات	الصادرات	أوجه المقارنة ص 152
هي السلع التي تشتريها الدولة من الخارج لسد حاجة السكان	هي السلع التي تبيعها الدولة للخارج	التعريف

السؤال الخامس : صنف الكلمات التالية بما يناسبها في الجدول:

ص 137 حديد-نحاس-خشب-الات ومعدات-مواد غذائية-اثاث-الاسواق - الحليب

مراحل الصناعة	مواد أولية	تحويل وتصنيع	توزيع
	حديد - نحاس - خشب - الحليب	الات ومعدات مواد غذائية اثاث	الاسواق

{الشعير - القطن - البن - العنب - الموز - الأرز - التمور - القمح - قصب السكر - الذرة الشامية - الموالح} ص 114

الحبوب الغذائية	الغلات النقدية	الفواكه والثمار
الارز - الذرة الشامية	قصب السكر	الموز
الشعير	القطن	التمور
القمح	البن	العنب - الموالح

من مقومات قيام الزراعة : {التربة - المناخ - التقدم العلمي - جهد الانسان - رأس المال - التضاريس - المياه}

ص 111

مقومات بشرية	مقومات طبيعية
جهد الانسان - رأس المال - التقدم العلمي	التربة - المناخ - التضاريس - المياه

{السعودية - اليمن - الصومال - المغرب - مصر - سوريا} ص 114

الغلة الزراعية	العنب	القمح	الشعير	الموز	البن	التمور
الدولة العربية	سوريا	مصر	المغرب	الصومال	اليمن	السعودية

{تعليب الفواكه والخضروات - الأثاث - استخراج المعادن - زجاج - صهر حديد - قطع أخشاب} ص 141

صناعات تحويلية	صناعات استخراجية
تعليب فواكه - أثاث - صهر حديد	استخراج معادن - زجاج - قطع أخشاب

{الأسمدة - البشوت - الفخار - السجاد - الاسمنت - السيارات - الأجهزة الكهربائية أنابيب بلاستيك} ص 146

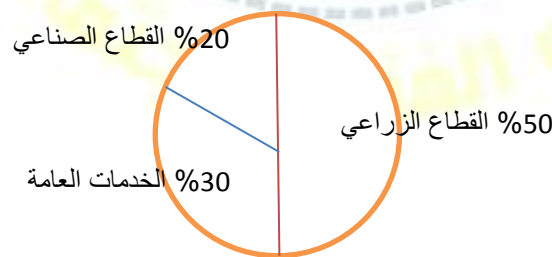
صناعات تجميعية	صناعات بتروكيماوية	صناعات حرفية
الأجهزة الكهربائية - السيارات - أنابيب بلاستيك	الاسمنت - الاسمدة	البشوت - الفخار - السجاد

السؤال السادس : صل عبارات المجموعة { أ } بما يناسبها من المجموعة { ب } : ص 126

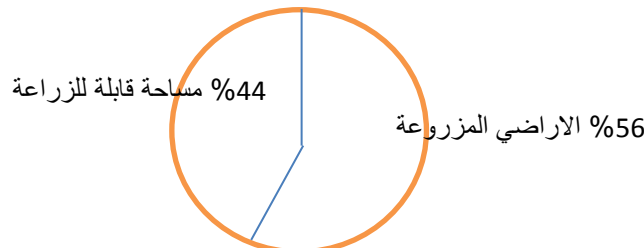
الرقم	المجموعة { أ }	المجموعة { ب }
1	- نسبة انتاج دول الخليج العربي وسهول دجلة والفرات من النفط ص 126	5
2	- نسبة انتاج الصحراء الكبرى من النفط ص 126	2
3	- نسبة انتاج منطقة خليج السويس من النفط ص 126	6
4	- نسبة انتاج النفط في الجناح الافريقي ص 128	3
5	- يبلغ نسبة انتاج الجناح الاسيوي من الغاز الطبيعي ص 128	4
6	- يبلغ نسبة احتياط الجناح الاسيوي من النفط ص 128	1

السؤال السابع : حدد على الدائرة البيانية القطاعات التي تشكل الاقتصاد في الوطن العربي: ص 110

- { القطاع الصناعي بنسبة 20% - القطاع الزراعي بنسبة 50% - الخدمات العامة 30% }

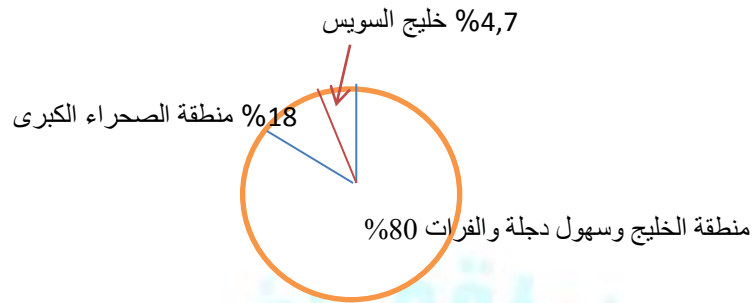


- حدد على الدائرة البيانية مساحة الأراضي المزروعة في الوطن العربي حوالي 56% من المساحة القابلة للزراعة

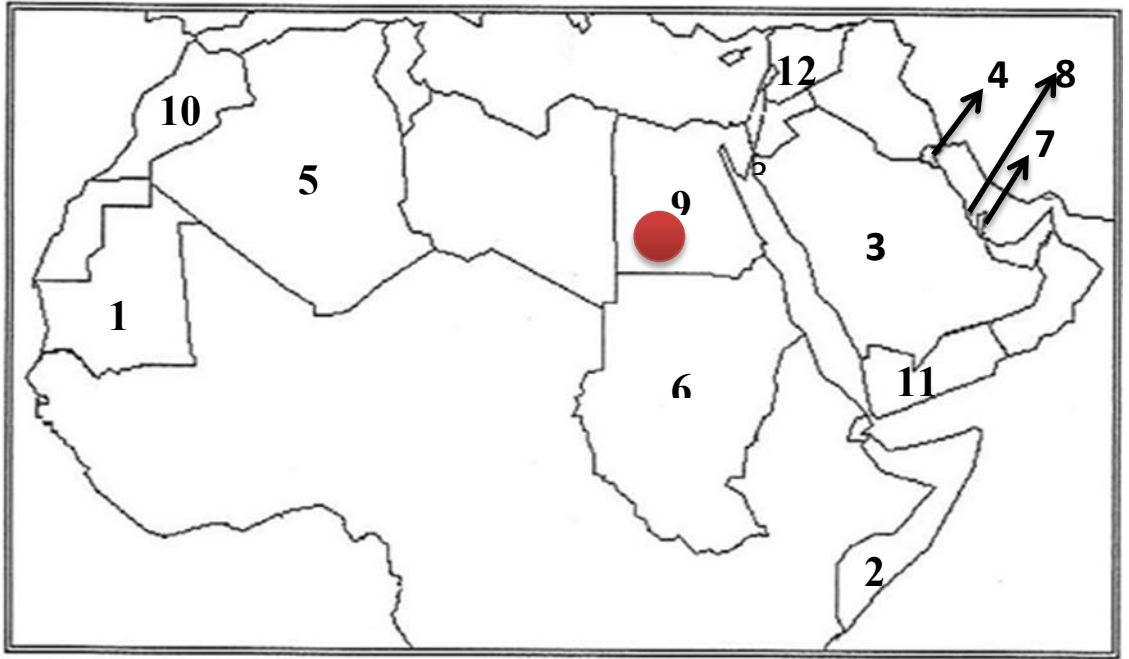


ص 116

-حدد على الدائرة البيانية نسب المناطق الرئيسية الثلاث التي تتركز فيها معظم حقول النفط العربي {منطقة الصحراء الكبرى 18% - منطقة الخليج وسهول دجلة والفرات 80%- خليج السويس 4,7%} ص 126



-السؤال الثامن : حدد على خريطة الوطن العربي الصماء ما يلي :



- الرقم (1) على الخريطة يمثل دولة عربية تحتل المرتبة الاولى في انتاج معدن الحديد تسمى موريتانيا ص 132
- الرقم (9) على الخريطة يمثل دولة عربية تحتل المرتبة الاولى من حيث عدد السكان تسمى مصر ص 100
- الرقم (6) على الخريطة يمثل الدولة العربية الاولى في انتاج الأغنام تسمى السودان ص 118
- الرقم (4) على الخريطة يمثل مقر منظمة الاوابك في دولة تسمى الكويت ص 135
- الدولة العربية الاولى في انتاج النفط واحتياطه يمثلها على الخريطة رقم (3) ص 129
- الدولة العربية الاولى في انتاج محصول الموز يمثلها على الخريطة رقم (2) ص 114
- دولة عربية التي تحتل المرتبة الاولى من حيث المساحة يمثلها على الخريطة رقم (5) ص 100
- الدولة العربية التي تحتل المرتبة الاولى في إنتاج الغاز الطبيعي واحتياطه يمثلها على الخريطة رقم (7) ص 129
- دولة عربية بالجنح الاسيوي تحتل المرتبة الاخيرة من حيث المساحة يمثلها على الخريطة رقم (8) ص 100
- الدولة العربية الاولى في انتاج الشعير يمثلها على الخريطة رقم (10) ص 114
- الدولة العربية الاولى في انتاج البن يمثلها على الخريطة رقم (11) ص 114
- الدولة العربية الاولى في انتاج العنب يمثلها على الخريطة رقم (12) ص 114

السؤال التاسع : عرف المفاهيم التالية:

1- التعداد السكاني: حصول الدولة على معلومات وافية عن اوضاع سكانها : عددهم – عدد كل جنس – اعمارهم وغير ذلك من معلومات 0 ص 99

2- الإحصاء الحيوي : تسجيل المواليد والوفيات وحالات الزواج والطلاق ونحصل على بياناتهم من واقع السجلات الرسمية للدولة 0 ص 99

3- الكثافة السكانية: عدد السكان الكلي
المساحة الكلية
ص 102

4- النمو السكاني : تزايد عدد السكان من عام لآخر نتيجة الزيادة الطبيعية (معدل المواليد – معدل الوفيات) والهجرة
ص 106

5- الزيادة الطبيعية : الفرق بين معدل المواليد - معدل الوفيات 0 ص 106

6- الزيادة الغير طبيعية : هي الزيادة الناتجة عن الهجرة 0 ص 106

7- الهجرة الداخلية : هي الهجرة من القرى إلى المدن 0 ص 106

8- الهجرة الخارجية : هي الهجرة من دولة إلى دولة أخرى 0 ص 106

9- الغلات الصناعية والتجارية: تشمل الغلات التي تدخل في الصناعة وتزرع بغرض التجارة والحصول على نقد تسمى {الغلات النقدية} مثل البن – الشمندر – الزيتون – قصب السكر 0 ص 113

10- الزراعة التقليدية : هي زراعة المحاصيل الزراعية بمعدات قديمة غير متطورة ص 116

11- الزراعة الحديثة : هي زراعة المحاصيل الزراعية باستخدام الآلات الحديثة والتكنولوجيا ص 115

12- النفط: بقايا عضوية على هيئة نباتات وحيوانات ترسبت في عصور قديمة و انطمرت تحت رواسب سميكة وتحولت بفعل الضغط والحرارة لصورتها الحالية 0 ص 125

13- الطاقة: قوى محركه للآلات وعنصر مهم للتقدم الاقتصادي في جميع المجالات 0 ص 125

14- الغاز الطبيعي : هو غاز مصاحب للنفط الخام أو يوجد منفردا تتم إسالته لاستخدامات عديدة 0 ص 125

- 15- منظمة الأوبك: منظمة عالمية مصدرة للنفط ص0 134
- 16- منظمة الأوبك: منظمة عربية مصدرة للنفط ص0 135
- 17- الصناعة: تحويل المواد الأولية إلى سلع ومنتجات تباع بالسوق ص0 138
- 18- مقومات الصناعة: العوامل التي تساعد على تحويل المادة الخام إلى سلع استهلاكية ص0 138
- 19- الصناعات التحويلية: هي تحويل المواد الأولية من معدنية نباتية وحيوانية لسلع استهلاكية صالحة للاستعمال ص0 142
- 20- الصناعات التجميعية: هي تركيب وجمع المواد المصنعة للحصول على سلع متنوعة ص143
- 21- الصناعات التعدينية: هي الصناعات الهادفة لتنقية الخامات المعدنية وتحويلها إلى صفائح أو سبائك لتنفيذ صناعات معدنية مختلفة ص141
- 22- التبادل التجاري: عملية التصدير والاستيراد بين الدول ص0 151
- 23- الغلات النقدية: الغلات الزراعية التي تدخل في الصناعة وتزرع بغرض التجارة والحصول على النقد ص0 113
- 24- الموارد الطبيعية: هي الثروات التي منحها الله لإقليم من دون ان يكون للإنسان اي دور في وجودها ص 109
- 25- الموارد البشرية: هي التي ترتبط بالسكان من حيث أعدادهم وتوزيعهم ومناسبة أعدادهم لمساحة الأرض التي يستغلونها ص0 109
- 26 - الصناعات الاستخراجية: هي استخراج مصادر الطاقة كالنفط والغاز و الفحم وخامات المعادن والاملاح وغيرها من باطن الارض واعادها لتصبح جاهزة للتصنيع ص 141
- 27- الصناعات الحرفية: تعد هذه الصناعات الاولى في العالم وتستخدم مواد اولية محلية وتعتمد على المجهود البشري ص143

-السؤال العاشر: أجب عن الأسئلة التالية:-

1- ما المناطق المناخية التي يقل فيها السكان؟ ص104

-المناخ الصحراوي -المناخ البارد -المناخ الاستوائي

2- ما المناطق التي يجذب السكان للعيش فيها؟ ص104

المناطق السهلية لتمتعها بمقومات طبيعية ومناخية وسهولة القيام بالانشطة الاقتصادية

3- كيف تغلب الانسان على صعوبة العيش والزراعة في الجبال ؟ ص 105

عن طريق التطور العلمي وتحويل الجبال لمدرجات وزرعها وشق الطرق

4- اذكر أسباب النمو السكاني في الوطن العربي ؟ ص 106

الزيادة الطبيعية - الزيادة الغير طبيعية {الهجرة}

5- ما أسباب هجرة الايدي العاملة من دول آسيا الى بعض دول الوطن العربي؟ ص 107

توفر فرص العمل - ارتفاع الأجور - توفر الخدمات الصحية

6- لماذا تختلف أنواع المنتجات من دولة عربية الى أخرى؟ ص 110

اختلاف المناخ - اختلاف التربة -مدى توفر المياه

7- اذكر أهم المنتجات التي يصدرها الوطن العربي للخارج؟ ص 110

قطن - زيتون - صمغ - الحمضيات

8- عدد مقومات قيام الانتاج الزراعي ؟ ص 111

مقومات طبيعية - مقومات بشرية

9- عدد المشكلات التي تعاني منها الزراعة في الوطن العربي ؟ ص 115

نقص موارد المياه - الاعتماد على مياه الامطار - ارتفاع نسبة الملوحة -

قلة الايدي العاملة - الاعتماد على الآلات القديمة التقليدية

10- عدد أنواع الثروة الرعوية في الوطن العربي؟ ص 118

أغنام - ماعز - الابل - الإبقار

11- أمثلة للصناعات الحرفية في الوطن العربي ؟ ص 143-144

البشوت - الفخار - السجاد - الخزف

12- عدد أنواع الثروة المانية في الوطن العربي ؟ ص 122

مرجان - اسفنج - لؤلؤ -قواقع

13- ما الأسباب التي جعلت الأغنام تحتل المكانة الهامة ضمن الثروة الرعوية؟ صفه 118

--الأكثر انتشارا في المراعي العربية - أكثر الحيوانات المستأنسة والملائمة للمراعي العربية وتتحمل الجفاف - أهمية منتجاتها - مصدر للثروة القومية

14- ما العوامل التي ساعدت على انتشار مزارع الدواجن في الوطن العربي؟ صفه 120

-توفير المياه -توفر المنتجات الزراعية {القمح -الشعير }

-توفير اللقاح والدواء والتطعيم اللازم-ملائمة المناخ -قلة التكلفة

15- ما أهمية النفط والغاز الطبيعي بالنسبة لاقتصاد الدول العربية؟ ص 125

-قوى محركة للآلات والمصانع - مصدر لرؤوس الأموال - مادة خام للعديد من الصناعات - أساس لمشاريع التنمية والعمران

16- ما أهمية الثروة المعدنية في الوطن العربي؟ ص 124

-انتاج الخامات المعدنية - مصادر الطاقة الأساسية لقيام الصناعة

17- اذكر مناطق تركيز الحقول النفطية في الوطن العربي؟ ص 126

-دول الخليج العربية وسهول دجلة والفرات - منطقة الصحراء الكبرى - منطقة خليج السويس

18- اذكر أسباب تصدير الدول العربية معظم انتاجها من النفط والغاز الطبيعي لخارج الوطن العربي؟

ص 129

-لقلة المصانع العربية - ضخامة الإنتاج وتزايد - انخفاض تكلفة الإنتاج

19- عدد الصناعات التحويلية في دول الوطن العربي؟ ص 142

-صناعات غذائية - صناعة المنسوجات - صناعة الخشب - صناعة مشتقات النفط

20- ما أهداف الصناعات البتروكيميائية؟ ص 145

-تنويع مصادر دخل الدولة المنتجة -توفير مواد أولية لصناعات تحويلية - لتأمين حاجة القطاعات الاستهلاكية {البناء} -

تطوير الصناعات البتروكيميائية لتقنيات متخصصة

21- ما أهمية طرق النقل و المواصلات لدول الوطن العربي؟ ص 147

من المقومات الأساسية لاستغلال وتنمية موارد الاقتصاد وربطها بمناطق الإنتاج والأسواق

22- ما أنواع طرق النقل في الوطن العربي ؟ ص 147

- الطرق البرية – الطرق المائية – الطرق الجوية

23- ما أهمية نقل البضائع بوسائل حديثة ومتطورة ؟ ص 148

-سرعة الوصول – ضمان سلامة البضائع – أكثر أمانا

24- ما مميزات طرق النقل الجوي ؟ ص 150

-سرعة الوصول – ضمان سلامة البضائع – أكثر أمانا

25- لماذا يفضل السكان العيش في المناطق السهلية ذات المناخ المعتدل ؟ ص 103

- سهولة التنقل والحركة

- لسهولة قيام الأنشطة الاقتصادية

- توفر مقومات الحياة

26- لماذا يصعب العيش في المناطق الجبلية . ص 103

- لأنها تمتاز بالانخفاض بدرجات الحرارة وارتفاع بالضغط الجوي

- صعوبة المواصلات والتنقل

- لصعوبة قيام بالأنشطة الاقتصادية وعدم توفر مقومات الحياة

27- لماذا يتجمع السكان حول مصادر المياه ؟ ص 103

- لأهميتها في حياة الانسان والزراعة

- لسهولة القيام بالأنشطة الاقتصادية

28- اسباب هجرة الايدي العاملة من بعض الدول العربية الى منطقة الخليج العربية ؟ ص 107

- حاجة الدولة لبعض التخصصات النادرة

- ارتفاع دخل

- توفر فرص العمل

- تقدير الكفاءات

29- فوائد اساسية لنشاط الزراعي في الوطن العربي ؟ ص 110

- توفر الغذاء

- توفر فرص العمل

- مادة اولية لكثير من الصناعات الغذائية

- مصدر دخل

30- ماهي مصادر المياه الرئيسية في الوطن العربي ؟ ص 111

- الانهار - البحيرات - البحار - الانهار - المياه الجوفية

31- ما هي اسباب عدم استغلال الاراضي الصالحة لزراعة ؟ ص 116

- نقص موارد المياه

- اعتماد بعض الاراضي على مياه الامطار فتصبح مناطق شبه جافة

- ارتفاع نسبة الملوحة في تربة الواحات والسهول

- اتباع بعض الدول الاساليب التقليدية في الزراعة

- قلة الايدي العاملة في الزراعة نظرا للهجرة من الريف الى المدن

32- لماذا يمتلك الصومال 6,6% من ثروة الوطن العربي من الابل ؟ ص 119

- تحمل الابل للمناخ الصحراوي القاسي وقدرته على تحمل الجفاف \ بسبب طبيعة البيئة

- وجود حشائش الاستبس كمصدر غذاء للابل

33- لماذا تساهم مصر بأكثر من ثلث الانتاج العربي من الاسماك ؟ ص 123

- بسبب امتداد سواحلها وتنوع المصائد البحرية فيها

34- اقترح بعض المقترحات التي تساعد في تنمية الثروة السمكية ؟ ص 123

- استخدام التقنية الحديثة

- تحسين مستوى العاملين بمهنة الصيد

- وضع اماكن خاصة للزراعة وتنمية الاسماك

35- الاسباب التي اعطت النفط العربي اهمية عالمية ؟ ص 131

- قوة محركه للآلات و المصانع

- مصدر لرؤوس الاموال

- مادة خام للعديد من الصناعات المهمة

- اساس المشاريع التنموية والعمران

36- لماذا يطلق على الغاز الطبيعي باسم الطاقة النظيفة ؟ ص 131

- لأنه لا ينتج عن احتراقه ظهور ملوثات التي تنتج عن احتراق المنتجات النفطية لذلك يدخل في استخدامات عديدة

37- ماهي استخدامات الغاز الطبيعي ؟ ص 131

- الاستعمال المنزلي

- تحلية المياه

- توليد الكهرباء

38- ماهي مقومات الصناعة ؟ ص 139

- مقومات طبيعة (المواد الخام – الطاقة)

- مقومات بشرية (رؤوس أموال – الأيدي العاملة – المهارة والخبرة – السوق – وسائل النقل)



الوحدة الرابعة



القصدون الكويتي للتعبئة الاقتصادية العربية
KUWAIT FUND FOR ARAB ECONOMIC DEVELOPMENT

السؤال الأول : املئ العبارات التالية :

- 1- الجهة المسؤولة في دولة الكويت بالقطاع الزراعي تسمى الهيئة العامة لزراعة والثروة السمكية . ص 162
- 2- موقع الوطن العربي في المناطق الجافة وشبه جافة يعرضه لمشكلة التصحّر ص 162
- 3- من أكثر الدول العربية تهديداً بالتصحّر السودان وموريتانيا و الصومال . ص 162
- 4- الموارد المائية في العالم العربي التي تأتي من خارج حدوده تبلغ 50% ص 164
- 5- يصيب التلوث عناصر البيئة من عدة مصادر للملوثات صناعية وزراعية و منزلية . ص 166
- 6- من أكثر الملوثات انتشاراً في الوطن العربي التلوث الكيميائي . ص 166
- 7- عقد أكبر مؤتمر للأمم المتحدة لمواجهة تلوث البيئة في مدينة ريودي جانيرو في البرازيل ص 167
- 8- عقد أكبر مؤتمر للأمم المتحدة لمواجهة تلوث البيئة عام 1992 . ص 167
- 9- عقد أكبر مؤتمر للأمم المتحدة في البرازيل و عرف باسم قمة الأرض وحضره أكثر من 100 رئيس دولة . ص 167
- 10- المواد الغازية الموجودة في وسائل التبريد وتكرير المياه تؤدي الى ثقب في طبقة الاوزون . ص 169
- 11- بقاء عناصر الطبيعة في حالة من التوازن يسمى التوازن البيئي ص 170
- 12- تعد الرياح والشمس من مصادر الطاقة المتجددة . ص 171
- 13- الدول العربية لديها القدرة على تحقيق التنمية والتقدم ويكون لها وزن عالمي اقتصادي وسياسي . ص 172
- 14- العام الذي تأسس فيه الصندوق السعودي لتنمية في عام 1974 . ص 179
- 15- العام الذي تأسس فيه صندوق أبوظبي لتنمية في عام 1971 . ص 179
- 16- العام الذي تأسس فيه الصندوق الكويتي لتنمية الاقتصادية العربي في عام 1961 . ص 179
- 17- أعلن قيام مجلس التعاون الخليجي في عام 1981 . ص 181
- 18- يضم مجلس التعاون الخليجي 6 دول . ص 181
- 19- عقد أكبر و أهم مؤتمر قمة عربية منذ تاريخ نشأة جامعة الدول العربية في دولة الكويت . ص 186
- 20- عقد أكبر و أهم مؤتمر قمة عربية منذ تاريخ نشأة جامعة الدول العربية في يومي 19 و 20 يناير . ص 186

21- أول مؤسسة لتنمية في الوطن العربي تسمى الصندوق الكويتي لتنمية الاقتصادية . ص 186

22- أكد صاحب السمو أمير البلاد الشيخ صباح الأحمد الصباح بأن مؤتمر القمة العربية الاقتصادية والتنمية والاجتماعية

ستكون بوابة خير . ص 186

السؤال الثاني : اكتب المصطلحات والمفاهيم الدالة على العبارات التالية:

- زحف رمال الصحراء على المناطق الجافة وشبه جافة يسمى التصحر . ص 162
- الضرر الذي يلحق بالتربة والهواء والماء ويصيب عناصر البيئة يسمى التلوث . ص 166
- بقاء عناصر الطبيعية في حالة من التوازن لتؤدي وظائفها على أكمل وجه يسمى التوازن البيئي . ص 170
- التطور والتطوير وهي عملية تتطلب التخطيط والمشاركة من الجميع تسمى التنمية . ص 172
- برامج تحسين نوعية الحياة ولا تتحقق إلا بمشاركة جميع المواطنين تسمى التنمية المستدامة . ص 175
- العمل على توثيق الصلات بين الدول والشعوب العربية وحماية مصالحها السياسية والاقتصادية والثقافية يسمى التضامن العربي . ص 177
- المنظمة العربية لتربية والثقافة والعلوم (ألكسو) مقرها تونس ص 177

السؤال الثالث : ضع خطا تحت الخيار الصحيح من بين الخيارات التي تلي كل عبارة :

- التلوث بأكسيد الكربون الناتج عن عوادم السيارات يؤدي إلى : ص 169
(ارتفاع في درجة حرارة الأرض - اعتدال المناخ - ثقب طبقة الأوزون)
- أكثر الملوثات انتشارا في الوطن العربي التلوث : ص 166
(الكيميائي - الفيزيائي - ضوضائي - المائي)
- المنظمة العربية لتربية والثقافة والعلوم (ألكسو) مقرها في : ص 183
(ليبيا - جزائر - مصر - تونس)

السؤال الرابع : املئ المخطط السهمي :




السؤال الخامس : صحى ماتحته خط في العبارات التالية :

- عقد أكبر مؤتمر للأمم المتحدة في مدينة ريو دي جانيرو بالبرازيل عام 1990 (1992) ص 167
- منظمة إقليمية لدول العربية تم تشكيلها في مدينة الدوحة (القاهرة) ص 178
- انضمت اليمن لجامعة الدول العربية ف 4 ابريل 1946 (5 مايو 1945) ص 178
- تضم جامعة الدول العربية 24 عضوا . (22 عضوا) ص 178
- أعلن قيام مجلس التعاون الخليجي في 25 مايو 1982 (25 مايو 1981) ص 181
- أنشأت المنظمة العربية لتنمية الزراعية في عام 1980 . (1970) ص 182
- تأسس الصندوق الكويتي لتنمية الاقتصادية العربية في عهد الشيخ جابر الأحمد (عبدالله السالم) ص 184
- يتبع الصندوق الكويتي لتنمية الاقتصادية العربية حاليا وزارة الداخلية (وزارة الخارجية) ص 184
- تأسس الصندوق الكويتي لتنمية الاقتصادية العربية بفكرة ودعم من صاحب السمو عبدالله السالم (جابر الأحمد الصباح) ص 184
- صاحب مبادرة عقد القمة العربية الاقتصادية والتنمية الاجتماعية عام 2005 الشيخ جابر الأحمد الصباح (صباح الأحمد الجابر الصباح) . ص 187
- عقد أول مؤتمر للمانحين لدعم الوضع الإنساني في سوريا في السعودية . (الكويت) ص 188
- عقد المؤتمر الأول الدولي للمانحين لدعم الوضع الإنساني في سوريا عام 2012 . (2013) ص 189
- عقد المؤتمر الثاني الدولي للمانحين لدعم الوضع الإنساني في سوريا عام 2015 . (2014) ص 189
- عقد المؤتمر الأول والثاني والثالث الدولي للمانحين لدعم الوضع الإنساني في سوريا في دولة قطر . (الكويت) ص 189
- تتم صناعة الزيوت النباتية في المملكة السعودية . (المغربية) ص 173

السؤال السادس : لاحظ الصور التالية ثم اكتب تعليقا مناسبيا :

أنواع التلوث ص 167



تلوث الماء



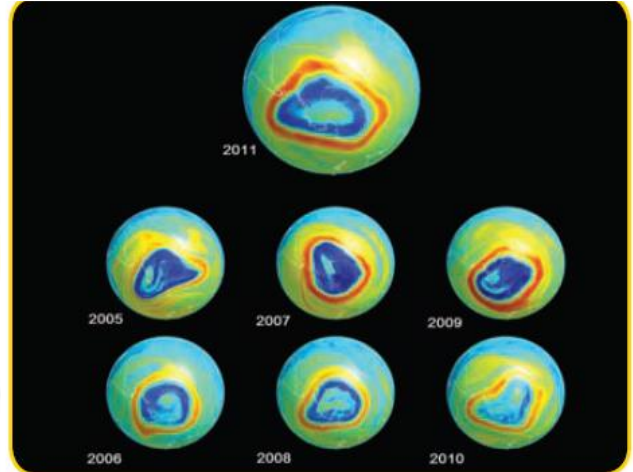
تلوث الهواء



تلوث التربة



حرق آبار النفط في دولة الكويت عام 1991 م
نتيجة : تلوث هوائي ومائي وارضى ص 168



ثقب في طبقة الأوزون
نتيجة : وسائل التبريد وتكرير المياه ص 168



مصنع لفرز النفايات ومعالجتها
نتيجة: علاج مشكلة النفايات ص 168



شاطئ ملوث بالنفايات
نتيجة: تلوث مائي ص 168



الرياح احد مصادر الطاقة المتجددة ص 171



الشمس احد مصادر الطاقة المتجددة ص 171



من خلال الصور التي امامك , أملئ الفقرة التالية بما يناسبها :

تأسس الصندوق الكويتي لتنمية الاقتصادية العربية في عهد الشيخ عبدالله في تاريخ 31- ديسمبر 1961
بفكرة و دعم من صاحب السمو جابر الاحمد الصباح حيث كان وزيرا للمالية آنذاك . ص 184



1- من صاحب المبادرة لعقد القمة العربية الاقتصادية والتنمية والاجتماعية ؟

الشيخ صباح الاحمد الجابر الصباح ص 186

2- متى عقدت القمة العربية الاقتصادية والتنمية والاجتماعية ؟

في تاريخ 19- 20 يناير 2009 م



1- أين عقد مؤتمر للمانحين لدعم لوضع الإنساني في سوريا ؟ ص 188

الكويت

2- صورة اليد في الشعار تمثل

يد بيد لمساعدة الشعب السوري



جامعة الدول العربية

منظمة إقليمية للدول العربية ، وقدمت تشكيلها

القاهرة

في مدينة

1945

في ٢٢ مارس

وضمّت ٦ أعضاء مؤسسين هم : مصر ،

العراق

الأردن ، لبنان

السعودية ، سوريا وانضمت

إليها اليمن في ٥ مايو ١٩٤٥ م ، كما انضمت

1961

إليها الكويت في عام

والآن تضم جامعة الدول العربية

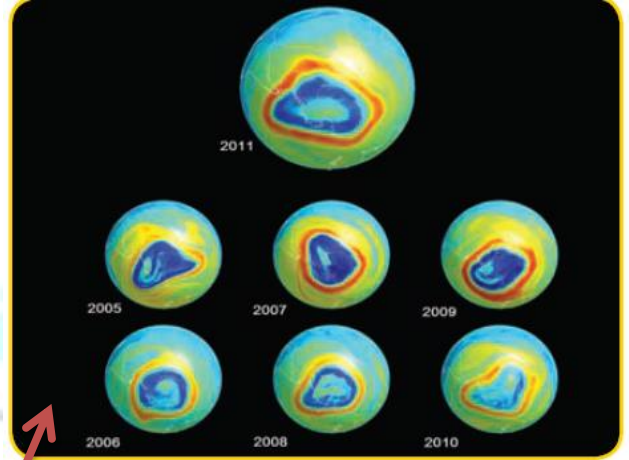
22

عضواً .

ص ، 178



صندوق أبوظبي للتنمية 1971م



صندوق السعودية للتنمية 1974م



صندوق أبوظبي للتنمية
ABU DHABI FUND FOR DEVELOPMENT

صندوق الكويتي للتنمية الاقتصادية
العربية والذي تم إنشاؤه في 1961



الصندوق السعودي للتنمية



لاحظ الصور التالية تم اكمال المطلوب منك ص 181:

أعلن قيام مجلس التعاون الخليجي
في ٢٥ مايو من عام 1981 م في
مدينة أبوظبي ويضم المجلس
٦ دول عربية مطلة على الخليج العربي
وهي :

السعودية / الكويت

قطر / البحرين

عمان / الامارات



1- ما اسم المنظمة ؟ ص 182

المنظمة العربية لتنمية الزراعة

2- متى تم أنشاؤها ؟

في عام 1970

3- اين يقع مقرها ؟

الخرطوم

4- ما هي أهدافها ؟

- تطوير الأنشطة المرتبطة بالزراعة

- رفع الكفاءة الانتاجية الزراعية والحيوانية



1- ما اسم المنظمة ؟ ص 182
المنظمة العربية لتنمية الصناعة والتعدين

2- متى تم أنشائها ؟

في عام 1988

3- اين يقع مقرها ؟

الرباط

4- ما هي أهدافها ؟

- تطوير وتنمية الصناعة في الوطن العربي .

- وضع مواصفات لجودة الصناعة



**المنظمة العربية
للتنمية الصناعية والتعدين**

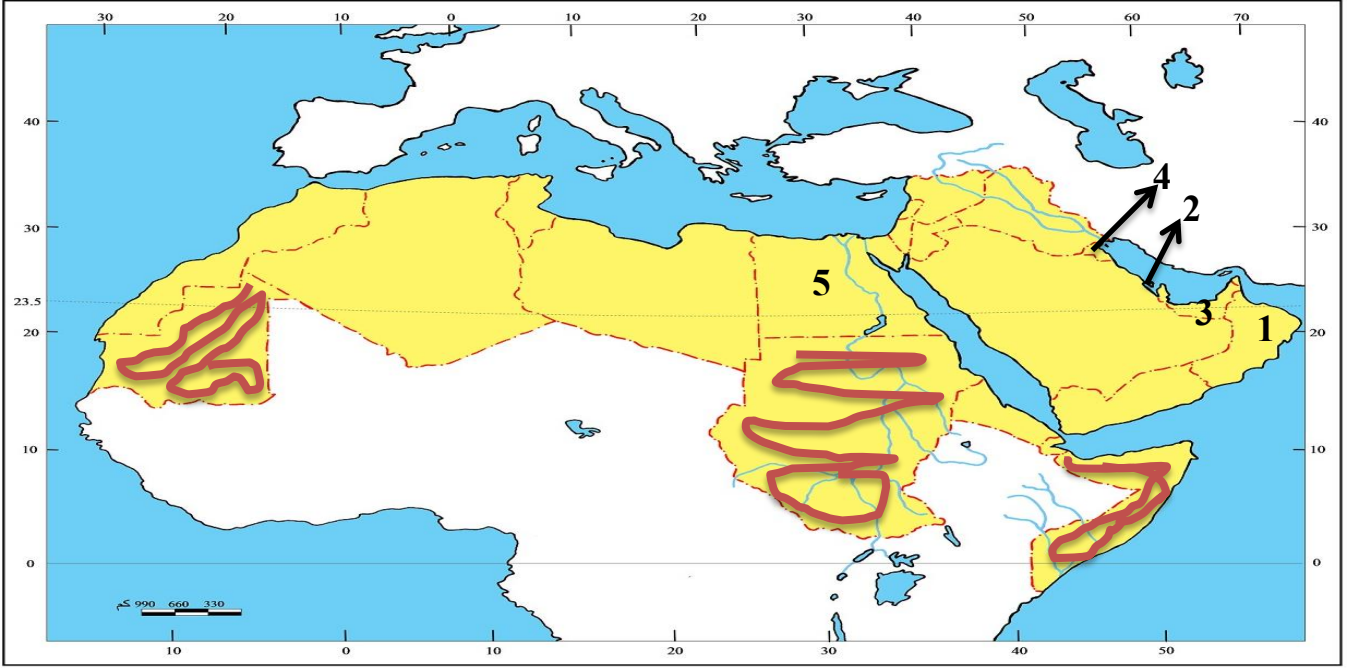
1- ما اسم المنظمة ؟ ص 183
ألكسو (المنظمة العربية لتربية والثقافة والعلوم

2- اين يقع مقرها ؟

تونس



السؤال السابع : لاحظ خريطة الوطن العربي التي امامك ثم نفذ المطلوب :



- ظل باللون الاحمر أكثر الدول العربية المهددة بالتصحر ص 162.
- محمية العرين توجد في دولة عربية يمثلها الرقم (2) ص 170
- محمية المها توجد في دولة عربية يمثلها الرقم (1) ص 170
- محمية رأس الخيمة توجد في دولة عربية يمثلها الرقم (3) ص 170
- مقر جامعة الدول العربية في دولة عربية يمثلها الرقم (5) ص 178
- الدولة التي عقد فيها المؤتمر الدولي للمانحين لدعم الوضع الانساني في سوريا (4) ص 82

الأسئلة المقالية :

السؤال الأول : عرف مايلي :

1- التصحّر : زحف رمال الصحراء على المناطق الجافة وشبه الجافة . ص 162

2- التلوث : هو الضرر الذي يلحق بالتربة والهواء والماء ويصيب التلوث عناصر البيئة من عدة مصادر للملوثات .
ص 166

3- التنمية : تعني التطور والتطوير وهي عملية تتطلب التخطيط والمشاركة من الجميع . ص 172

4- التنمية المستدامة : عبارة عن برامج تحسين نوعية الحياة ولا تتحقق إلا بمشاركة جميع المواطنين . ص 175

5- التضامن العربي : هو العمل على توثيق الصلات بين دول و الشعوب العربية وحماية مصالحها السياسية والاقتصادية والثقافية . ص 177

السؤال الثاني : أجب عن مايلي :

1- ما هي العقبات التي تواجه الإنتاج الزراعي في الوطن العربي ؟ ص 161

أ- عدم استغلال الاراضي القابلة للزراعة لندرة مياه الري أو تذبذب الأمطار أو قلة الأيدي العاملة

ب- اتباع طرق الزراعة التقليدية في معظم أجزاء الوطن العربي .

ج- زحف الرمال (التصحّر) وانجراف التربة

د- تلوث التربة نتيجة للإسراف في استخدام المبيدات الحشرية وارتفاع نسبة الملوحة بالتربية .

و- الرعي الجائر

2- اقترح حلول لبعض مشاكل الزراعة في الوطن العربي ؟ ص 161

أ- استصلاح التربة

ب- الزراعة في البيوت البلاستيكية

ج- استخدام اساليب حديثة في الري كالري بالتنقيط

د- البحث عن مصادر مياه عذبة

3- الأثار الناجمة عن الرعي الجائر ؟ ص 162

أ- تحول المناطق الزراعية والمراعي الى اراضي صحراوية

4- ما النتائج المترتبة على معالجة الدول العربية للمشكلات المرتبطة بالزراعة ؟ ص 163

أ- زيادة الانتاج عن طريق الأساليب العلمية

ب- زيادة المساحات المزروعة

ج- إقامة مشروعات الري

5- ما اسباب تدني وفرة المياه في الوطن العربي : ص 164

أ- النمو السريع للسكان الذي يشكل ضغطا متزايدا على المياه المتوفرة لكل فرد

ب- 50% من الموارد المائية في العالم العربي تأتي من خارج حدوده , وتتحكم فيها دول المنبع في غياب تشريعات دولية تضمن حقوقنا .

ج- الطرق التقليدية في استغلال المياه في معظم مناطق العالم مسؤولة عن تدني نسبة المياه

د- الشبكات المؤهلة لنقل المياه شبكات قديمة

و- افتقار الدول العربية إلى برامج لإدارة المياه , كما أنها لا تستخدم الأدوات الاقتصادية اللازمة لترشيد الاستخدام المتزايد من المياه

6- ما أهم مظاهر التلوث ؟ ص 166

أ- الاحتباس الحراري

ب- ثقب في طبقة الأوزون

ج - انتشار الأمراض وموت الكائنات الحية

7- ما هي الخطوات نحو سياسة بيئية فاعلة ؟ ص 171

أ- حماية الموارد الطبيعية

ب- توليد طاقة نظيفة

ج- تنمية الوعي البيئي

8- ما هي طرق لحماية الموارد الطبيعية ؟ ص 171

أ- استخدام السليم للموارد بعيدا عن الاستغلال السيئ للثروات الطبيعية وتلويثها بالنفايات .

ب- المحافظة على نظافة هذه الموارد بحيث تصبح قادرة على تجديد مواردها والتخلص من مخاطر التصحر وتلاشي تلوث الشواطئ

9- ما هي الطرق المتبعة لتوليد طاقة نظيفة ؟ ص 171

أ- إعادة تجديد محطات الطاقة القديمة .

ب- الاعتماد على مصادر الطاقة البديلة كالشمس والرياح والمياه للتخفيف من تلوث البيئة .

10- كيف تنمي الوعي البيئي ؟ ص 171

أ- الاستعمال الأمثل للموارد من ماء وكهرباء

ب- فرز النفايات المنزلية و الابتعاد عن الأوعية البلاستيكية

ج- الحرص على نظافة الأماكن العامة والشواطئ

د- فحص محركات السيارات وصيانتها

و- التوقف عن تدمير أو قطع النباتات

11- ارتكزت عملية التنمية في الوطن العربي على ثلاثة محاور رئيسية ؟ ص 173

أ- التنمية الاقتصادية

ب- التنمية المستدامة

ج- التنمية البشرية

12- ما أهداف التنمية الاقتصادية ؟ ص 174

أ- استخدام العلم في زيادة الإنتاج.

ب- تحقيق التكامل بين الدول العربية في الامكانيات والحاجات

13- ما أهداف التنمية البشرية ؟ ص 174

أ- كيف يتم توظيف قدرات الانسان العربي لبناء مجتمع المعرفة .

ب- الاهتمام بالطفل العربي ورعايته في مرحلة الطفولة المبكرة .

ج- توفير فرص العمل والرعاية الصحية والقضاء على الفقر

د- رفع كفاءة الثروة البشرية علميا وفكريا وروحيا

و- تعميق المشاركة في الرأي والحوار في ظل الديمقراطية

14- ما المشكلات التي تواجه التنمية البشرية ؟ ص 175

أ- ضعف الاستفادة من القدرات البشرية في المنطقة العربية

ب- مشكلة الأمية

ج- نقص و محدودية مشاركة المرأة في المنظمات السياسية

د- الاختلاف الكبير في مستويات المعيشة بين دولة وأخرى وفي داخل الدولة الواحدة .

15- ما أهداف التنمية المستدامة . ص 175

أ- القضاء على الفقر

ب- القضاء التام على الجوع

ج- الصحة الجيدة والرفاة

د- التعليم الجيد

ه- المساواة بين الجنسين

و- المياه النظيفة والنظافة الصحية

ز- طاقة نظيفة وبأسعار معقولة

16- عددي جوهر التنمية المستدامة ؟ ص 176

أ- الحرية

ب- المعرفة

ج- العمل الجماعي

ح- الابداع

د- الكفاءة لا المحسوبية

ه- حقوق المرأة

و- حقوق الطفل

17- أنشأت الجامعة العربية عددا من المؤسسات الاقتصادية والاجتماعية وعقدت المؤتمرات المختلفة

لتحقيق التعاون العربي والتكامل الاقتصادي بين الدول العربية ومن ابرز هذه المؤسسات ؟ ص 177

أ- مجلس الوحدة الاقتصادية العربية

ب- المنظمة العربية للتنمية الزراعية

18- ما أهم الصناديق الوطنية على مستوى الدول التابعة للجامعة العربية ؟ ص 179

أ- الصندوق الكويتي للتنمية الاقتصادية العربية والذي تم إنشاؤه عام 1961 .

ب- صندوق أبوظبي للتنمية 1971م

ج- الصندوق السعودي للتنمية 1974 م .

19- كان نجاح سياسة الكويت في المجال العربي عاملا مهما باتخاذها مقرا لعدة منظمات عربية منها ؟ ص 182

أ- المنظمة العربية للتنمية الزراعية.

ب- المنظمة العربية للتنمية الصناعية والتعدين

ج- المنظمة العربية لتربية والثقافة والعلوم (ألكسو)

20- ما أهم أهداف القمة الاقتصادية التنموية العربي ؟ ص 186

أ- إنشاء بنك عربي لتمويل شتى المشاريع التنموية للتقليل من معدلات الفقر.

ب- القضاء على البطالة والفقر بتوفير فرص العمل

ج- الاستثمار الاقتصادي بين الدول العربية وتقوية التبادل التجاري

د- الاعتناء بالعنصر البشري والتنمية المستدامة

21- ما سبب عقد مؤتمر القمة العربية الاقتصادية والتنموية والاجتماعية عام 2009 م؟ ص 187

أ- إعادة تعمير قطاع غزة بعد تعرضها للغزو الاسرائيلي الغاشم في بداية يناير 2009 م

ب- الذي أسفر عن قتل الآلاف من الابرياء وتدمير البنية التحتية لقطاع غزة بالكامل

22- من صاحب مبادرة عقد القمة العربية الاقتصادية والتنموية والاجتماعية عام 2009؟ ص 187

أ- صاحب السمو أمير البلاد الشيخ صباح الأحمد الجابر الصباح

23- لماذا تعتبر السودان والصومال وموريتانيا أكثر الدول العربية تهديدا بالتصحر ؟ ص 162

أ- لأنها تقع في مناطق جافه وشبه جافة

24- كيف تتحول الأراضي الزراعية إلى أراضي صحراوية غير منتجة ؟ ص 162

أ- فقدان التربة لخصوبتها

ب- تناقص كميات المطر

ج- الضغط السكاني

25- ما علاج مشكلة التصحر في الوطن العربي ؟ ص 163

أ- يتطلب تشجير بعض المناطق

ب- مصدات للرياح لحماية المزروعات من زحف الرمال.

ج- تنشيت الكثبان الرملية

د- إقامة المحميات الطبيعية

26- ما هي مصادر الملوثات التي تصيب عناصر البيئة بالتلوث ؟ ص 166

أ- صناعية ب- زراعية ج- منزلية

27- ما اكثر الملوثات انتشارا ؟ ص 166

أ- هو التلوث الكيميائي مثل الغازات السامة الصادرة من محطات التحلية ودخان المصانع وعوادم السيارات

28- ما اسباب التلوث البيئي ؟ ص 166

أ- انتشار الدخان من عوادم السيارات والمصانع

ب- القاء المخلفات الصناعية والبشرية في المياه

ج- استخدام المبيدات الحشرية والاسمدة الكيميائية

29- ما أثر التلوث على الإنسان والنبات والحيوان ؟ ص 166

أ- انتشار الامراض بين البشر والحيوانات

ب- القضاء على الغطاء النباتي الطبيعي

30- ما الاسباب التي تدعو الشباب والعلماء للهجرة إلى الخارج ؟ ص 175

أ- انعدام العدالة في توزيع فرص العمل

ب- الريادة العلمية والتكنولوجية للبلدان الجاذبة ومناخ الاستقرار والتقدم الذي تتمتع به هذه البلدان

ج- توافر الثروات المادية الضخمة التي تمكنها من توفير فرص عمل هامة ومجزية ماديا .

د- إتاحة الفرص لأصحاب الخبرات في مجال البحث العلمي والتجارب التي تثبت كفاءتهم وتطورها من جهة اخرى .

31- ساهمت صناديق التنمية العربية بشكل ايجابي في مشاريع التنمية العربية عن طرق ؟ ص 179

أ- تقديم القروض والتمويل المشترك

ب- تقديم المنح للتمويل

ج- تقديم المساعدات الاقتصادية للدول تدعيما لنموها الاقتصادي .

32- ما هي اهداف مجلس التعاون الخليجي ؟ ص 181

أ- تحقيق التعاون بين الدول الاعضاء في جميع المجالات

ب- تحقيق الترابط والصلات بين دول مجلس التعاون الخليجي

ج- العمل على تقدم دول مجلس التعاون الخليجي في المجال العلمي

33- ما اهم انجازات الصندوق الكويتي لتنمية الاقتصادية العربية ؟ ص 185

أ- مشروع ضخ لمياه نبع السن في سوريا

ب- صيانة وتدعيم ري الرهد في السودان

ج-مصنع للأسمدة الفوسفاتية في الاردن

34- ما اهداف الصندوق الكويتي للتنمية الاقتصادية العربية ؟ ص 185

أ- تقديم القروض المسيرة للدول المحتاجة .

ب- تقديم كافة المساعدات المادية لقضايا العالم العربي والاسلامي

ج- المساهمة في تطوير التنمية في الوطن العربي والعالم الاسلامي

35- ما اهم القرارات والتوصيات التي صدرت في مؤتمر المانحين الثاني والثالث ؟ ص 189

أ- التخفيف من المعاناة الانسانية والوضع المأساوي للشعب السوري

ب- توفير أكبر قدر من المساعدات والموارد المالية لمواجهة هذه الكارثة الانسانية التي يمر بها الشعب السوري

ج- تكاتف الجهود المجتمع الدولي وتوحيد صفوفه لإيجاد حل لتجاوز هذا الوضع المأساوي لسوريا .

36- كيف نحافظ على ثروة المياه ؟ ص 165

أ- ترشيد استخدام المياه والحد من التبذير في المنازل

ب- الحد من هدر المياه في عمليات الري , وذلك باستخدام الوسائل الحديثة كالرش بالتنقيط والمحوري .

ت- تطوير استعمال مياه الصرف الصحي المعالجة في الزراعة .

ج- تنظيم عملية الاستفادة من المياه الجوفية ومنع تسرب الاملاح الملوثة اليها واستثمارها على الوجه الامثل

ح- اقامة البحيرات والسدود لتجميع مياه الامطار والسيول للاستفادة منها في فصل الصيف

د- توقيع اتفاقيات مع الدول المشاركة ودول المنبع لتحقيق مصالح الدول العربية المعنية

مع تُمْنِيَاتِنَا لَكُمْ بِالنَّجَاحِ وَالتَّوْفِيقِ

الفهرس

رقم الصفحة	عنوان الوحدة	اسم المعلماه
42الى21	الوحدة الاولى (الوطن العربي مقومات وملامح جغرافية)	شهد النومس
63الى44	الوحدة الاولى (الوطن العربي مقومات وملامح جغرافية)	زينب الأشوك
78الى71	الوحدة الثانية(الوطن العربي مهد الحضارات والديانات السماوية)	غدير العازمي
92الى79	الوحدة الثانية(الوطن العربي مهد الحضارات والديانات السماوية)	جلال عبد الحافظ
152الى99	الوحدة الثالثة(الوطن العربي ملامح بشريه واقصاديه)	فاطمه المويصري
176الى161	الوحدة الرابعة(الوطن العربي قضايا وتحديات وحلول نحو مستقبل افضل)	وضحه الروقي + زينب الأشوك + غدير العازمي
186الى177	الوحدة الرابعة(الوطن العربي قضايا وتحديات وحلول نحو مستقبل افضل)	انوار الرشيدى + زينب الأشوك + غدير العازمي

تنسيق المعلمة : زينب الاشوك